

Одобрено педагогическим советом  
МБОУ СОШ №30 г. Пензы  
«28 августа 2025 г., протокол № 13

УТВЕРЖДЕНО  
приказом № 203-од от 28.08.2025  
Директор МБОУ СОШ № 30 г. Пензы  
\_\_\_\_\_ А.А. Долов

Муниципальное бюджетное общеобразовательное учреждение  
средняя общеобразовательная школа №30 г. Пензы

**РАБОЧАЯ ПРОГРАММА УЧЕБНОГО КУРСА  
ДЛЯ ОБУЧАЮЩИХСЯ С ТНР (вариант 5.1)**

**«Геометрия»**

**7-9 класс**

**(ФГОС ООО)**

## **ПОЯСНИТЕЛЬНАЯ ЗАПИСКА**

Рабочая программа для обучающихся с тяжелыми нарушениями речи (далее – ТНР) на уровне основного общего образования подготовлена на основе Федерального государственного образовательного стандарта основного общего образования (Приказ Минпросвещения России от 31.05.2021 г. № 287, зарегистрирован Министерством юстиции Российской Федерации 05.07.2021 г., рег. номер 64101) (далее – ФГОС ООО), федеральной адаптированной образовательной программы основного общего образования, программы воспитания, с учетом распределенных по классам проверяемых требований к результатам освоения Адаптированной основной образовательной программы основного общего образования обучающихся с тяжелыми нарушениями речи.

При реализации АООП ООО для обучающихся с тяжелыми нарушениями речи (вариант 5.1) используются рабочие программы учебных предметов, предусмотренные ООП ООО.

Рабочая программа может быть адаптирована с учётом особых образовательных потребностей обучающихся, их возможностей и ограничений, обусловленных нарушениями речи и (при наличии) иными нарушениями развития.

Геометрия как один из основных разделов школьной математики, имеющий своей целью обеспечить изучение свойств и размеров фигур, их отношений и взаимное расположение, опирается на логическую, доказательную линию. Ценность изучения геометрии на уровне основного общего образования заключается в том, что обучающийся учится проводить доказательные рассуждения, строить логические умозаключения, доказывать истинные утверждения и строить контрпримеры к ложным, проводить рассуждения «от противного», отличать свойства от признаков, формулировать обратные утверждения.

Второй целью изучения геометрии является использование её как инструмента при решении как математических, так и практических задач, встречающихся в реальной жизни. Обучающийся должен научиться определить геометрическую фигуру, описать словами данный чертёж или рисунок, найти площадь земельного участка, рассчитать необходимую длину оптоволоконного кабеля или требуемые размеры гаража для автомобиля. Этому соответствует вторая, вычислительная линия в изучении геометрии. При решении задач практического характера обучающийся учится строить математические модели реальных жизненных ситуаций, проводить вычисления и оценивать адекватность полученного результата.

Крайне важно подчёркивать связи геометрии с другими учебными предметами, мотивировать использовать определения геометрических фигур и понятий, демонстрировать применение полученных умений в физике и технике. Эти связи наиболее ярко видны в темах «Векторы», «Тригонометрические соотношения», «Метод координат» и «Теорема Пифагора».

Учебный курс «Геометрия» включает следующие основные разделы содержания: «Геометрические фигуры и их свойства», «Измерение геометрических величин», «Декартовы координаты на плоскости», «Векторы», «Движения плоскости», «Преобразования подобия».

На изучение учебного курса «Геометрия» отводится 204 часа: в 7 классе – 68 часов (2 часа в неделю), в 8 классе – 68 часов (2 часа в неделю), в 9 классе – 68 часов (2 часа в неделю).

### **СОДЕРЖАНИЕ ОБУЧЕНИЯ**

#### **7 КЛАСС**

Начальные понятия геометрии. Точка, прямая, отрезок, луч. Угол. Виды углов. Вертикальные и смежные углы. Биссектриса угла. Ломаная, многоугольник. Параллельность и перпендикулярность прямых.

Симметричные фигуры. Основные свойства осевой симметрии. Примеры симметрии в окружающем мире.

Основные построения с помощью циркуля и линейки. Треугольник. Высота, медиана, биссектриса, их свойства.

Равнобедренный и равносторонний треугольники. Неравенство треугольника.

Свойства и признаки равнобедренного треугольника. Признаки равенства треугольников.

Свойства и признаки параллельных прямых. Сумма углов треугольника. Внешние углы треугольника.

Прямоугольный треугольник. Свойство медианы прямоугольного треугольника, проведённой к гипотенузе. Признаки равенства прямоугольных треугольников. Прямоугольный треугольник с углом в  $30^\circ$ .

Неравенства в геометрии: неравенство треугольника, неравенство о длине ломаной, теорема о большем угле и большей стороне треугольника. Перпендикуляр и наклонная.

Геометрическое место точек. Биссектриса угла и серединный перпендикуляр к отрезку как геометрические места точек.

Окружность и круг, хорда и диаметр, их свойства. Взаимное расположение окружности и прямой. Касательная и секущая к окружности. Окружность, вписанная в угол. Вписанная и описанная окружности треугольника.

## **8 КЛАСС**

Четырёхугольники. Параллелограмм, его признаки и свойства. Частные случаи параллелограммов (прямоугольник, ромб, квадрат), их признаки и свойства. Трапеция, равнобокая трапеция, её свойства и признаки. Прямоугольная трапеция.

Метод удвоения медианы. Центральная симметрия. Теорема Фалеса и теорема о пропорциональных отрезках.

Средние линии треугольника и трапеции. Центр масс треугольника.

Подобие треугольников, коэффициент подобия. Признаки подобия треугольников. Применение подобия при решении практических задач.

Свойства площадей геометрических фигур. Формулы для площади треугольника, параллелограмма, ромба и трапеции. Отношение площадей подобных фигур.

Вычисление площадей треугольников и многоугольников на клетчатой бумаге.

Теорема Пифагора. Применение теоремы Пифагора при решении практических задач.

Синус, косинус, тангенс острого угла прямоугольного треугольника. Основное тригонометрическое тождество. Тригонометрические функции углов в  $30^\circ$ ,  $45^\circ$  и  $60^\circ$ .

Вписанные и центральные углы, угол между касательной и хордой. Углы между хордами и секущими. Вписанные и описанные четырёхугольники. Взаимное расположение двух окружностей. Касание окружностей. Общие касательные к двум окружностям.

## **9 КЛАСС**

Синус, косинус, тангенс углов от  $0$  до  $180^\circ$ . Основное тригонометрическое тождество. Формулы приведения.

Решение треугольников. Теорема косинусов и теорема синусов. Решение практических задач с использованием теоремы косинусов и теоремы синусов.

Преобразование подобия. Подобие соответственных элементов.

Теорема о произведении отрезков хорд, теоремы о произведении отрезков секущих, теорема о квадрате касательной.

Вектор, длина (модуль) вектора, сонаправленные векторы, противоположно направленные векторы, коллинеарность векторов, равенство векторов, операции над векторами. Разложение вектора по двум неколлинеарным векторам. Координаты вектора. Скалярное произведение векторов, применение для нахождения длин и углов.

Декартовы координаты на плоскости. Уравнения прямой и окружности в координатах, пересечение окружностей и прямых. Метод координат и его применение.

Правильные многоугольники. Длина окружности. Градусная и радианная мера угла, вычисление длин дуг окружностей. Площадь круга, сектора, сегмента.

Движения плоскости и внутренние симметрии фигур (элементарные представления). Параллельный перенос. Поворот.

## **ПЛАНИРУЕМЫЕ РЕЗУЛЬТАТЫ ОСВОЕНИЯ ПРОГРАММЫ УЧЕБНОГО КУРСА «ГЕОМЕТРИЯ» НА УРОВНЕ ОСНОВНОГО ОБЩЕГО ОБРАЗОВАНИЯ**

### **ЛИЧНОСТНЫЕ РЕЗУЛЬТАТЫ**

**Личностные результаты** освоения программы учебного курса «Геометрия» характеризуются:

#### **1) патриотическое воспитание:**

проявлением интереса к прошлому и настоящему российской математики, ценностным отношением к достижениям российских математиков и российской математической школы, к использованию этих достижений в других науках и прикладных сферах;

#### **2) гражданское и духовно-нравственное воспитание:**

готовностью к выполнению обязанностей гражданина и реализации его прав, представлением о математических основах функционирования различных структур, явлений, процедур гражданского общества (например, выборы, опросы), готовностью к обсуждению этических проблем, связанных с практическим применением достижений науки, осознанием важности морально-этических принципов в деятельности учёного;

#### **3) трудовое воспитание:**

установкой на активное участие в решении практических задач математической направленности, осознанием важности математического образования на протяжении всей жизни для успешной профессиональной деятельности и развитием необходимых умений, осознанным выбором и построением индивидуальной траектории образования и жизненных планов с учётом личных интересов и общественных потребностей;

#### **4) эстетическое воспитание:**

способностью к эмоциональному и эстетическому восприятию математических объектов, задач, решений, рассуждений, умению видеть математические закономерности в искусстве;

#### **5) ценности научного познания:**

ориентацией в деятельности на современную систему научных представлений об основных закономерностях развития человека, природы и общества, пониманием математической науки как сферы человеческой деятельности, этапов её развития и значимости для развития цивилизации, овладением языком математики и математической культурой как средством познания мира, овладением простейшими навыками исследовательской деятельности;

#### **6) физическое воспитание, формирование культуры здоровья и эмоционального благополучия:**

готовностью применять математические знания в интересах своего здоровья, ведения здорового образа жизни (здоровое питание, сбалансированный режим занятий и отдыха, регулярная физическая активность), сформированностью навыка рефлексии, признанием своего права на ошибку и такого же права другого человека;

#### **7) экологическое воспитание:**

ориентацией на применение математических знаний для решения задач в области сохранности окружающей среды, планирования поступков и оценки их возможных последствий для окружающей среды, осознанием глобального характера экологических проблем и путей их решения;

#### **8) адаптация к изменяющимся условиям социальной и природной среды:**

готовностью к действиям в условиях неопределённости, повышению уровня своей компетентности через практическую деятельность, в том числе умение учиться у других людей, приобретать в совместной деятельности новые знания, навыки и компетенции из опыта других;

необходимостью в формировании новых знаний, в том числе формулировать идеи, понятия, гипотезы об объектах и явлениях, в том числе ранее неизвестных, осознавать дефициты собственных знаний и компетентностей, планировать своё развитие;

способностью осознавать стрессовую ситуацию, воспринимать стрессовую ситуацию как вызов, требующий контрмер, корректировать принимаемые решения и действия, формулировать и оценивать риски и последствия, формировать опыт.

## **МЕТАПРЕДМЕТНЫЕ РЕЗУЛЬТАТЫ**

### **Познавательные универсальные учебные действия**

#### **Базовые логические действия:**

- выявлять и характеризовать существенные признаки математических объектов, понятий, отношений между понятиями, формулировать определения понятий, устанавливать существенный признак классификации, основания для обобщения и сравнения, критерии проводимого анализа;
- воспринимать, формулировать и преобразовывать суждения: утвердительные и отрицательные, единичные, частные и общие, условные;
- выявлять математические закономерности, взаимосвязи и противоречия в фактах, данных, наблюдениях и утверждениях, предлагать критерии для выявления закономерностей и противоречий;
- делать выводы с использованием законов логики, дедуктивных и индуктивных умозаключений, умозаключений по аналогии;
- разбирать доказательства математических утверждений (прямые и от противного), проводить самостоятельно несложные доказательства математических фактов, выстраивать аргументацию, приводить примеры и контрпримеры, обосновывать собственные рассуждения;
- выбирать способ решения учебной задачи (сравнивать несколько вариантов решения, выбирать наиболее подходящий с учётом самостоятельно выделенных критериев).

#### **Базовые исследовательские действия:**

- использовать вопросы как исследовательский инструмент познания, формулировать вопросы, фиксирующие противоречие, проблему, самостоятельно устанавливать искомое и данное, формировать гипотезу, аргументировать свою позицию, мнение;
- проводить по самостоятельно составленному плану несложный эксперимент, небольшое исследование по установлению особенностей математического объекта, зависимостей объектов между собой;
- самостоятельно формулировать обобщения и выводы по результатам проведённого наблюдения, исследования, оценивать достоверность полученных результатов, выводов и обобщений;
- прогнозировать возможное развитие процесса, а также выдвигать предположения о его развитии в новых условиях.

#### **Работа с информацией:**

- выявлять недостаточность и избыточность информации, данных, необходимых для решения задачи;
- выбирать, анализировать, систематизировать и интерпретировать информацию различных видов и форм представления;
- выбирать форму представления информации и иллюстрировать решаемые задачи схемами, диаграммами, иной графикой и их комбинациями;

- оценивать надёжность информации по критериям, предложенным учителем или сформулированным самостоятельно.

#### **Коммуникативные универсальные учебные действия:**

- воспринимать и формулировать суждения в соответствии с условиями и целями общения, ясно, точно, грамотно выражать свою точку зрения в устных и письменных текстах, давать пояснения по ходу решения задачи, комментировать полученный результат;
- в ходе обсуждения задавать вопросы по существу обсуждаемой темы, проблемы, решаемой задачи, высказывать идеи, нацеленные на поиск решения, сопоставлять свои суждения с суждениями других участников диалога, обнаруживать различие и сходство позиций, в корректной форме формулировать разногласия, свои возражения;
- представлять результаты решения задачи, эксперимента, исследования, проекта, самостоятельно выбирать формат выступления с учётом задач презентации и особенностей аудитории;
- понимать и использовать преимущества командной и индивидуальной работы при решении учебных математических задач;
- принимать цель совместной деятельности, планировать организацию совместной работы, распределять виды работ, договариваться, обсуждать процесс и результат работы, обобщать мнения нескольких людей;
- участвовать в групповых формах работы (обсуждения, обмен мнениями, мозговые штурмы и другие), выполнять свою часть работы и координировать свои действия с другими членами команды, оценивать качество своего вклада в общий продукт по критериям, сформулированным участниками взаимодействия.

#### **Регулятивные универсальные учебные действия**

##### **Самоорганизация:**

- самостоятельно составлять план, алгоритм решения задачи (или его часть), выбирать способ решения с учётом имеющихся ресурсов и собственных возможностей, аргументировать и корректировать варианты решений с учётом новой информации.

##### **Самоконтроль, эмоциональный интеллект:**

- владеть способами самопроверки, самоконтроля процесса и результата решения математической задачи;
- предвидеть трудности, которые могут возникнуть при решении задачи, вносить коррективы в деятельность на основе новых обстоятельств, найденных ошибок, выявленных трудностей;
- оценивать соответствие результата деятельности поставленной цели и условиям, объяснять причины достижения или недостижения цели, находить ошибку, давать оценку приобретённому опыту.

#### **ПРЕДМЕТНЫЕ РЕЗУЛЬТАТЫ**

К концу обучения в 7 классе обучающийся получит следующие предметные результаты:

Распознавать изученные геометрические фигуры, определять их взаимное расположение, изображать геометрические фигуры, выполнять чертежи по условию задачи. Измерять линейные и угловые величины. Решать задачи на вычисление длин отрезков и величин углов.

Делать грубую оценку линейных и угловых величин предметов в реальной жизни, размеров природных объектов. Различать размеры этих объектов по порядку величины.

Строить чертежи к геометрическим задачам.

Пользоваться признаками равенства треугольников, использовать признаки и свойства равнобедренных треугольников при решении задач.

Проводить логические рассуждения с использованием геометрических теорем.

Пользоваться признаками равенства прямоугольных треугольников, свойством медианы, проведённой к гипотенузе прямоугольного треугольника, в решении геометрических задач.

Определять параллельность прямых с помощью углов, которые образует с ними секущая. Определять параллельность прямых с помощью равенства расстояний от точек одной прямой до точек другой прямой.

Решать задачи на клетчатой бумаге.

Проводить вычисления и находить числовые и буквенные значения углов в геометрических задачах с использованием суммы углов треугольников и многоугольников, свойств углов, образованных при пересечении двух параллельных прямых секущей. Решать практические задачи на нахождение углов.

Владеть понятием геометрического места точек. Уметь определять биссектрису угла и серединный перпендикуляр к отрезку как геометрические места точек.

Формулировать определения окружности и круга, хорды и диаметра окружности, пользоваться их свойствами. Уметь применять эти свойства при решении задач.

Владеть понятием описанной около треугольника окружности, уметь находить её центр. Пользоваться фактами о том, что биссектрисы углов треугольника пересекаются в одной точке, и о том, что серединные перпендикуляры к сторонам треугольника пересекаются в одной точке.

Владеть понятием касательной к окружности, пользоваться теоремой о перпендикулярности касательной и радиуса, проведённого к точке касания.

Пользоваться простейшими геометрическими неравенствами, понимать их практический смысл.

Проводить основные геометрические построения с помощью циркуля и линейки.

К концу обучения **в 8 классе** обучающийся получит следующие предметные результаты:

Распознавать основные виды четырёхугольников, их элементы, пользоваться их свойствами при решении геометрических задач.

Применять свойства точки пересечения медиан треугольника (центра масс) в решении задач.

Владеть понятием средней линии треугольника и трапеции, применять их свойства при решении геометрических задач. Пользоваться теоремой Фалеса и теоремой о пропорциональных отрезках, применять их для решения практических задач.

Применять признаки подобия треугольников в решении геометрических задач.

Пользоваться теоремой Пифагора для решения геометрических и практических задач. Строить математическую модель в практических задачах, самостоятельно делать чертёж и находить соответствующие длины.

Владеть понятиями синуса, косинуса и тангенса острого угла прямоугольного треугольника. Пользоваться этими понятиями для решения практических задач.

Вычислять (различными способами) площадь треугольника и площади многоугольных фигур (пользуясь, где необходимо, калькулятором). Применять полученные умения в практических задачах.

Владеть понятиями вписанного и центрального угла, использовать теоремы о вписанных углах, углах между хордами (секущими) и угле между касательной и хордой при решении геометрических задач.

Владеть понятием описанного четырёхугольника, применять свойства описанного четырёхугольника при решении задач.

Применять полученные знания на практике – строить математические модели для задач реальной жизни и проводить соответствующие вычисления с применением подобия и тригонометрии (пользуясь, где необходимо, калькулятором).

К концу обучения **в 9 классе** обучающийся получит следующие предметные результаты:

Знать тригонометрические функции острых углов, находить с их помощью различные элементы прямоугольного треугольника («решение прямоугольных треугольников»). Находить (с помощью калькулятора) длины и углы для нетабличных значений.

Пользоваться формулами приведения и основным тригонометрическим тождеством для нахождения соотношений между тригонометрическими величинами.

Использовать теоремы синусов и косинусов для нахождения различных элементов треугольника («решение треугольников»), применять их при решении геометрических задач.

Владеть понятиями преобразования подобия, соответственных элементов подобных фигур. Пользоваться свойствами подобия произвольных фигур, уметь вычислять длины и находить углы у подобных фигур. Применять свойства подобия в практических задачах. Уметь приводить примеры подобных фигур в окружающем мире.

Пользоваться теоремами о произведении отрезков хорд, о произведении отрезков секущих, о квадрате касательной.

Пользоваться векторами, понимать их геометрический и физический смысл, применять их в решении геометрических и физических задач. Применять скалярное произведение векторов для нахождения длин и углов.

Пользоваться методом координат на плоскости, применять его в решении геометрических и практических задач.

Владеть понятиями правильного многоугольника, длины окружности, длины дуги окружности и радианной меры угла, уметь вычислять площадь круга и его частей. Применять полученные умения в практических задачах.

Находить оси (или центры) симметрии фигур, применять движения плоскости в простейших случаях.

Применять полученные знания на практике – строить математические модели для задач реальной жизни и проводить соответствующие вычисления с применением подобия и тригонометрических функций (пользуясь, где необходимо, калькулятором).



**ТЕМАТИЧЕСКОЕ ПЛАНИРОВАНИЕ  
7 КЛАСС**

№ п/п	Наименование разделов и тем программы	Количество часов			Электронные (цифровые) образовательные ресурсы
		Всего	Контрольные работы	Практические работы	
1	Простейшие геометрические фигуры и их свойства. Измерение геометрических величин	14			Библиотека ЦОК <a href="https://m.edsoo.ru/7f415e2e">https://m.edsoo.ru/7f415e2e</a>
2	Треугольники	22	1		Библиотека ЦОК <a href="https://m.edsoo.ru/7f415e2e">https://m.edsoo.ru/7f415e2e</a>
3	Параллельные прямые, сумма углов треугольника	14	1		Библиотека ЦОК <a href="https://m.edsoo.ru/7f415e2e">https://m.edsoo.ru/7f415e2e</a>
4	Окружность и круг. Геометрические построения	14	1		Библиотека ЦОК <a href="https://m.edsoo.ru/7f415e2e">https://m.edsoo.ru/7f415e2e</a>
5	Повторение, обобщение знаний	4	1		Библиотека ЦОК <a href="https://m.edsoo.ru/7f415e2e">https://m.edsoo.ru/7f415e2e</a>
ОБЩЕЕ КОЛИЧЕСТВО ЧАСОВ ПО ПРОГРАММЕ		68	4	0	

**8 КЛАСС**

№ п/п	Наименование разделов и тем программы	Количество часов			Электронные (цифровые) образовательные ресурсы
		Всего	Контрольные работы	Практические работы	
1	Четырёхугольники	12	1		Библиотека ЦОК <a href="https://m.edsoo.ru/7f417e18">https://m.edsoo.ru/7f417e18</a>
2	Теорема Фалеса и теорема о пропорциональных отрезках, подобные треугольники	15	1		Библиотека ЦОК <a href="https://m.edsoo.ru/7f417e18">https://m.edsoo.ru/7f417e18</a>
3	Площадь. Нахождение площадей	14	1		Библиотека ЦОК

	треугольников и многоугольных фигур. Площади подобных фигур				<a href="https://m.edsoo.ru/7f417e18">https://m.edsoo.ru/7f417e18</a>
4	Теорема Пифагора и начала тригонометрии	10	1		Библиотека ЦОК <a href="https://m.edsoo.ru/7f417e18">https://m.edsoo.ru/7f417e18</a>
5	Углы в окружности. Вписанные и описанные четырехугольники. Касательные к окружности. Касание окружностей	13	1		Библиотека ЦОК <a href="https://m.edsoo.ru/7f417e18">https://m.edsoo.ru/7f417e18</a>
6	Повторение, обобщение знаний	4	1		Библиотека ЦОК <a href="https://m.edsoo.ru/7f417e18">https://m.edsoo.ru/7f417e18</a>
ОБЩЕЕ КОЛИЧЕСТВО ЧАСОВ ПО ПРОГРАММЕ		68	6	0	

## 9 КЛАСС

№ п/п	Наименование разделов и тем программы	Количество часов			Электронные (цифровые) образовательные ресурсы
		Всего	Контрольные работы	Практические работы	
1	Тригонометрия. Теоремы косинусов и синусов. Решение треугольников	16	1		Библиотека ЦОК <a href="https://m.edsoo.ru/7f41a12c">https://m.edsoo.ru/7f41a12c</a>
2	Преобразование подобия. Метрические соотношения в окружности	10	1		Библиотека ЦОК <a href="https://m.edsoo.ru/7f41a12c">https://m.edsoo.ru/7f41a12c</a>
3	Векторы	12	1		Библиотека ЦОК <a href="https://m.edsoo.ru/7f41a12c">https://m.edsoo.ru/7f41a12c</a>
4	Декартовы координаты на плоскости	9	1		Библиотека ЦОК <a href="https://m.edsoo.ru/7f41a12c">https://m.edsoo.ru/7f41a12c</a>
5	Правильные многоугольники. Длина окружности и площадь круга. Вычисление площадей	8			Библиотека ЦОК <a href="https://m.edsoo.ru/7f41a12c">https://m.edsoo.ru/7f41a12c</a>
6	Движения плоскости	6			Библиотека ЦОК <a href="https://m.edsoo.ru/7f41a12c">https://m.edsoo.ru/7f41a12c</a>

7	Повторение, обобщение, систематизация знаний	7	2		Библиотека ЦОК <a href="https://m.edsoo.ru/7f41a12c">https://m.edsoo.ru/7f41a12c</a>
ОБЩЕЕ КОЛИЧЕСТВО ЧАСОВ ПО ПРОГРАММЕ		68	6	0	

# **ПОУРОЧНОЕ ПЛАНИРОВАНИЕ** **7 КЛАСС**

№ п/п	Тема урока	Количество часов			Дата изучения	Электронные цифровые образовательные ресурсы
		Всего	Контрольные работы	Практические работы		
1	Простейшие геометрические объекты	1				Библиотека ЦОК <a href="https://m.edsoo.ru/8866b724">https://m.edsoo.ru/8866b724</a>
2	Многоугольник, ломаная	1				Библиотека ЦОК <a href="https://m.edsoo.ru/8866cb6a">https://m.edsoo.ru/8866cb6a</a>
3	Смежные и вертикальные углы	1				Библиотека ЦОК <a href="https://m.edsoo.ru/8866c5c0">https://m.edsoo.ru/8866c5c0</a>
4	Смежные и вертикальные углы	1				Библиотека ЦОК <a href="https://m.edsoo.ru/8866c7be">https://m.edsoo.ru/8866c7be</a>
5	Смежные и вертикальные углы	1				
6	Смежные и вертикальные углы	1				
7	Смежные и вертикальные углы	1				
8	Смежные и вертикальные углы	1				
9	Измерение линейных и угловых величин, вычисление отрезков и углов	1				
10	Измерение линейных и угловых величин, вычисление отрезков и углов	1				Библиотека ЦОК <a href="https://m.edsoo.ru/8866c3ea">https://m.edsoo.ru/8866c3ea</a>
11	Измерение линейных и угловых величин, вычисление отрезков и углов	1				
12	Измерение линейных и угловых величин, вычисление отрезков и углов	1				

13	Периметр и площадь фигур, составленных из прямоугольников	1				
14	Периметр и площадь фигур, составленных из прямоугольников	1				
15	Понятие о равных треугольниках и первичные представления о равных фигурах	1				Библиотека ЦОК <a href="https://m.edsoo.ru/8866ce80">https://m.edsoo.ru/8866ce80</a>
16	Три признака равенства треугольников	1				Библиотека ЦОК <a href="https://m.edsoo.ru/8866d1fa">https://m.edsoo.ru/8866d1fa</a>
17	Три признака равенства треугольников	1				Библиотека ЦОК <a href="https://m.edsoo.ru/8866d34e">https://m.edsoo.ru/8866d34e</a>
18	Три признака равенства треугольников	1				Библиотека ЦОК <a href="https://m.edsoo.ru/8866e01e">https://m.edsoo.ru/8866e01e</a>
19	Три признака равенства треугольников	1				
20	Три признака равенства треугольников	1				
21	Три признака равенства треугольников	1				Библиотека ЦОК <a href="https://m.edsoo.ru/8866e88e">https://m.edsoo.ru/8866e88e</a>
22	Признаки равенства прямоугольных треугольников	1				
23	Признаки равенства прямоугольных треугольников	1				
24	Свойство медианы прямоугольного треугольника, проведённой к гипотенузе	1				Библиотека ЦОК <a href="https://m.edsoo.ru/8866e9ec">https://m.edsoo.ru/8866e9ec</a>
25	Свойство медианы прямоугольного треугольника, проведённой к гипотенузе	1				
26	Равнобедренные и равносторонние треугольники	1				Библиотека ЦОК <a href="https://m.edsoo.ru/8866d6fa">https://m.edsoo.ru/8866d6fa</a>
27	Признаки и свойства равнобедренного треугольника	1				Библиотека ЦОК <a href="https://m.edsoo.ru/8866d880">https://m.edsoo.ru/8866d880</a>
28	Признаки и свойства равнобедренного	1				Библиотека ЦОК

	треугольника					<a href="https://m.edsoo.ru/8866d880">https://m.edsoo.ru/8866d880</a>
29	Признаки и свойства равнобедренного треугольника	1				Библиотека ЦОК <a href="https://m.edsoo.ru/8866e26c">https://m.edsoo.ru/8866e26c</a>
30	Неравенства в геометрии	1				
31	Неравенства в геометрии	1				Библиотека ЦОК <a href="https://m.edsoo.ru/8866e3a2">https://m.edsoo.ru/8866e3a2</a>
32	Неравенства в геометрии	1				
33	Неравенства в геометрии	1				
34	Прямоугольный треугольник с углом в $30^\circ$	1				Библиотека ЦОК <a href="https://m.edsoo.ru/8866eb22">https://m.edsoo.ru/8866eb22</a>
35	Прямоугольный треугольник с углом в $30^\circ$	1				
36	Контрольная работа по теме "Треугольники"	1	1			Библиотека ЦОК <a href="https://m.edsoo.ru/8866ecbc">https://m.edsoo.ru/8866ecbc</a>
37	Параллельные прямые, их свойства	1				Библиотека ЦОК <a href="https://m.edsoo.ru/8866ef64">https://m.edsoo.ru/8866ef64</a>
38	Пятый постулат Евклида	1				
39	Накрест лежащие, соответственные и односторонние углы, образованные при пересечении параллельных прямых секущей	1				Библиотека ЦОК <a href="https://m.edsoo.ru/8866f086">https://m.edsoo.ru/8866f086</a>
40	Накрест лежащие, соответственные и односторонние углы, образованные при пересечении параллельных прямых секущей	1				
41	Накрест лежащие, соответственные и односторонние углы, образованные при пересечении параллельных прямых секущей	1				
42	Накрест лежащие, соответственные и односторонние углы, образованные при	1				

	пересечении параллельных прямых секущей					
43	Накрест лежащие, соответственные и односторонние углы, образованные при пересечении параллельных прямых секущей	1				Библиотека ЦОК <a href="https://m.edsoo.ru/8866f3b0">https://m.edsoo.ru/8866f3b0</a>
44	Признак параллельности прямых через равенство расстояний от точек одной прямой до второй прямой	1				
45	Признак параллельности прямых через равенство расстояний от точек одной прямой до второй прямой	1				
46	Сумма углов треугольника	1				Библиотека ЦОК <a href="https://m.edsoo.ru/8866f630">https://m.edsoo.ru/8866f630</a>
47	Сумма углов треугольника	1				Библиотека ЦОК <a href="https://m.edsoo.ru/8866f8ba">https://m.edsoo.ru/8866f8ba</a>
48	Внешние углы треугольника	1				Библиотека ЦОК <a href="https://m.edsoo.ru/8866fa5e">https://m.edsoo.ru/8866fa5e</a>
49	Внешние углы треугольника	1				
50	Контрольная работа по теме "Параллельные прямые, сумма углов треугольника"	1	1			Библиотека ЦОК <a href="https://m.edsoo.ru/8866fe6e">https://m.edsoo.ru/8866fe6e</a>
51	Окружность, хорды и диаметр, их свойства	1				Библиотека ЦОК <a href="https://m.edsoo.ru/88670800">https://m.edsoo.ru/88670800</a>
52	Касательная к окружности	1				Библиотека ЦОК <a href="https://m.edsoo.ru/88670e9a">https://m.edsoo.ru/88670e9a</a>
53	Окружность, вписанная в угол	1				
54	Окружность, вписанная в угол	1				
55	Понятие о ГМТ, применение в задачах	1				Библиотека ЦОК <a href="https://m.edsoo.ru/8867013e">https://m.edsoo.ru/8867013e</a>
56	Понятие о ГМТ, применение в задачах	1				Библиотека ЦОК

						<a href="https://m.edsoo.ru/88670508">https://m.edsoo.ru/88670508</a>
57	Биссектриса и серединный перпендикуляр как геометрические места точек	1				
58	Окружность, описанная около треугольника	1				Библиотека ЦОК <a href="https://m.edsoo.ru/88670a62">https://m.edsoo.ru/88670a62</a>
59	Окружность, описанная около треугольника	1				
60	Окружность, вписанная в треугольник	1				Библиотека ЦОК <a href="https://m.edsoo.ru/8867103e">https://m.edsoo.ru/8867103e</a>
61	Окружность, вписанная в треугольник	1				
62	Простейшие задачи на построение	1				Библиотека ЦОК <a href="https://m.edsoo.ru/88671188">https://m.edsoo.ru/88671188</a>
63	Простейшие задачи на построение	1				Библиотека ЦОК <a href="https://m.edsoo.ru/886712d2">https://m.edsoo.ru/886712d2</a>
64	Контрольная работа по теме "Окружность и круг. Геометрические построения"	1	1			Библиотека ЦОК <a href="https://m.edsoo.ru/88671462">https://m.edsoo.ru/88671462</a>
65	Повторение и обобщение знаний основных понятий и методов курса 7 класса	1				Библиотека ЦОК <a href="https://m.edsoo.ru/886715b6">https://m.edsoo.ru/886715b6</a>
66	Итоговая контрольная работа	1	1			Библиотека ЦОК <a href="https://m.edsoo.ru/886716ec">https://m.edsoo.ru/886716ec</a>
67	Повторение и обобщение знаний основных понятий и методов курса 7 класса	1				
68	Повторение и обобщение знаний основных понятий и методов курса 7 класса	1				Библиотека ЦОК <a href="https://m.edsoo.ru/886719bc">https://m.edsoo.ru/886719bc</a>
ОБЩЕЕ КОЛИЧЕСТВО ЧАСОВ ПО ПРОГРАММЕ		68	4	0		

## 8 КЛАСС

№ п/п	Тема урока	Количество часов			Дата изучен ия	Электронные цифровые образовательные ресурсы
		Всего	Контроль ные работы	Практичес кие работы		
1	Параллелограмм, его признаки и свойства	1				Библиотека ЦОК <a href="https://m.edsoo.ru/88671af2">https://m.edsoo.ru/88671af2</a>
2	Параллелограмм, его признаки и свойства	1				Библиотека ЦОК <a href="https://m.edsoo.ru/88671ca0">https://m.edsoo.ru/88671ca0</a>
3	Параллелограмм, его признаки и свойства	1				Библиотека ЦОК <a href="https://m.edsoo.ru/88671ca0">https://m.edsoo.ru/88671ca0</a>
4	Частные случаи параллелограммов (прямоугольник, ромб, квадрат), их признаки и свойства	1				Библиотека ЦОК <a href="https://m.edsoo.ru/88671dea">https://m.edsoo.ru/88671dea</a>
5	Частные случаи параллелограммов (прямоугольник, ромб, квадрат), их признаки и свойства	1				Библиотека ЦОК <a href="https://m.edsoo.ru/88671f20">https://m.edsoo.ru/88671f20</a>
6	Частные случаи параллелограммов (прямоугольник, ромб, квадрат), их признаки и свойства	1				Библиотека ЦОК <a href="https://m.edsoo.ru/8867209c">https://m.edsoo.ru/8867209c</a>
7	Трапеция	1				Библиотека ЦОК <a href="https://m.edsoo.ru/88672358">https://m.edsoo.ru/88672358</a>
8	Равнобокая и прямоугольная трапеции	1				Библиотека ЦОК <a href="https://m.edsoo.ru/8867252e">https://m.edsoo.ru/8867252e</a>
9	Равнобокая и прямоугольная трапеции	1				Библиотека ЦОК <a href="https://m.edsoo.ru/88672858">https://m.edsoo.ru/88672858</a>
10	Метод удвоения медианы	1				Библиотека ЦОК <a href="https://m.edsoo.ru/88672b14">https://m.edsoo.ru/88672b14</a>
11	Центральная симметрия	1				Библиотека ЦОК



						<a href="https://m.edsoo.ru/88672b14">https://m.edsoo.ru/88672b14</a>
12	Контрольная работа по теме "Четырёхугольники"	1	1			Библиотека ЦОК <a href="https://m.edsoo.ru/88672c9a">https://m.edsoo.ru/88672c9a</a>
13	Теорема Фалеса и теорема о пропорциональных отрезках	1				Библиотека ЦОК <a href="https://m.edsoo.ru/8867337a">https://m.edsoo.ru/8867337a</a>
14	Средняя линия треугольника	1				Библиотека ЦОК <a href="https://m.edsoo.ru/88672e0c">https://m.edsoo.ru/88672e0c</a>
15	Средняя линия треугольника	1				Библиотека ЦОК <a href="https://m.edsoo.ru/88672f38">https://m.edsoo.ru/88672f38</a>
16	Трапеция, её средняя линия	1				Библиотека ЦОК <a href="https://m.edsoo.ru/88672358">https://m.edsoo.ru/88672358</a>
17	Трапеция, её средняя линия	1				Библиотека ЦОК <a href="https://m.edsoo.ru/88673064">https://m.edsoo.ru/88673064</a>
18	Пропорциональные отрезки	1				Библиотека ЦОК <a href="https://m.edsoo.ru/88673794">https://m.edsoo.ru/88673794</a>
19	Пропорциональные отрезки	1				Библиотека ЦОК <a href="https://m.edsoo.ru/88673794">https://m.edsoo.ru/88673794</a>
20	Центр масс в треугольнике	1				Библиотека ЦОК <a href="https://m.edsoo.ru/886738fc">https://m.edsoo.ru/886738fc</a>
21	Подобные треугольники	1				Библиотека ЦОК <a href="https://m.edsoo.ru/88673a78">https://m.edsoo.ru/88673a78</a>
22	Три признака подобия треугольников	1				Библиотека ЦОК <a href="https://m.edsoo.ru/88673bae">https://m.edsoo.ru/88673bae</a>
23	Три признака подобия треугольников	1				Библиотека ЦОК <a href="https://m.edsoo.ru/88673d52">https://m.edsoo.ru/88673d52</a>
24	Три признака подобия треугольников	1				Библиотека ЦОК <a href="https://m.edsoo.ru/8867400e">https://m.edsoo.ru/8867400e</a>
25	Три признака подобия треугольников	1				
26	Применение подобия при решении практических задач	1				

27	Контрольная работа по теме "Подобные треугольники"	1	1			Библиотека ЦОК <a href="https://m.edsoo.ru/8867445a">https://m.edsoo.ru/8867445a</a>
28	Свойства площадей геометрических фигур	1				Библиотека ЦОК <a href="https://m.edsoo.ru/886745fe">https://m.edsoo.ru/886745fe</a>
29	Формулы для площади треугольника, параллелограмма	1				Библиотека ЦОК <a href="https://m.edsoo.ru/88674860">https://m.edsoo.ru/88674860</a>
30	Формулы для площади треугольника, параллелограмма	1				Библиотека ЦОК <a href="https://m.edsoo.ru/88674a22">https://m.edsoo.ru/88674a22</a>
31	Формулы для площади треугольника, параллелограмма	1				Библиотека ЦОК <a href="https://m.edsoo.ru/88674a22">https://m.edsoo.ru/88674a22</a>
32	Формулы для площади треугольника, параллелограмма	1				Библиотека ЦОК <a href="https://m.edsoo.ru/88675288">https://m.edsoo.ru/88675288</a>
33	Формулы для площади треугольника, параллелограмма	1				Библиотека ЦОК <a href="https://m.edsoo.ru/8867542c">https://m.edsoo.ru/8867542c</a>
34	Вычисление площадей сложных фигур	1				Библиотека ЦОК <a href="https://m.edsoo.ru/88674e78">https://m.edsoo.ru/88674e78</a>
35	Площади фигур на клетчатой бумаге	1				Библиотека ЦОК <a href="https://m.edsoo.ru/8867473e">https://m.edsoo.ru/8867473e</a>
36	Площади подобных фигур	1				
37	Площади подобных фигур	1				
38	Задачи с практическим содержанием	1				Библиотека ЦОК <a href="https://m.edsoo.ru/88675558">https://m.edsoo.ru/88675558</a>
39	Задачи с практическим содержанием	1				Библиотека ЦОК <a href="https://m.edsoo.ru/88675684">https://m.edsoo.ru/88675684</a>
40	Решение задач с помощью метода вспомогательной площади	1				Библиотека ЦОК <a href="https://m.edsoo.ru/88674f90">https://m.edsoo.ru/88674f90</a>
41	Контрольная работа по теме "Площадь"	1	1			Библиотека ЦОК <a href="https://m.edsoo.ru/8867579c">https://m.edsoo.ru/8867579c</a>
42	Теорема Пифагора и её применение	1				Библиотека ЦОК <a href="https://m.edsoo.ru/88675918">https://m.edsoo.ru/88675918</a>

43	Теорема Пифагора и её применение	1				Библиотека ЦОК <a href="https://m.edsoo.ru/88675918">https://m.edsoo.ru/88675918</a>
44	Теорема Пифагора и её применение	1				Библиотека ЦОК <a href="https://m.edsoo.ru/88675abc">https://m.edsoo.ru/88675abc</a>
45	Теорема Пифагора и её применение	1				
46	Теорема Пифагора и её применение	1				
47	Определение тригонометрических функций острого угла прямоугольного треугольника, тригонометрические соотношения в прямоугольном треугольнике	1				Библиотека ЦОК <a href="https://m.edsoo.ru/88675d32">https://m.edsoo.ru/88675d32</a>
48	Основное тригонометрическое тождество	1				Библиотека ЦОК <a href="https://m.edsoo.ru/88675f44">https://m.edsoo.ru/88675f44</a>
49	Основное тригонометрическое тождество	1				
50	Основное тригонометрическое тождество	1				
51	Контрольная работа по теме "Теорема Пифагора и начала тригонометрии"	1	1			Библиотека ЦОК <a href="https://m.edsoo.ru/8a1407e8">https://m.edsoo.ru/8a1407e8</a>
52	Вписанные и центральные углы, угол между касательной и хордой	1				Библиотека ЦОК <a href="https://m.edsoo.ru/8a1415b2">https://m.edsoo.ru/8a1415b2</a>
53	Вписанные и центральные углы, угол между касательной и хордой	1				Библиотека ЦОК <a href="https://m.edsoo.ru/8a141940">https://m.edsoo.ru/8a141940</a>
54	Вписанные и центральные углы, угол между касательной и хордой	1				Библиотека ЦОК <a href="https://m.edsoo.ru/8a141b34">https://m.edsoo.ru/8a141b34</a>
55	Углы между хордами и секущими	1				
56	Углы между хордами и секущими	1				
57	Вписанные и описанные четырёхугольники, их признаки и свойства	1				Библиотека ЦОК <a href="https://m.edsoo.ru/8a140f86">https://m.edsoo.ru/8a140f86</a>
58	Вписанные и описанные четырёхугольники, их признаки и	1				Библиотека ЦОК <a href="https://m.edsoo.ru/8a1416d4">https://m.edsoo.ru/8a1416d4</a>

	свойства					
59	Вписанные и описанные четырёхугольники, их признаки и свойства	1				Библиотека ЦОК <a href="https://m.edsoo.ru/8a1416d4">https://m.edsoo.ru/8a1416d4</a>
60	Применение свойств вписанных и описанных четырёхугольников при решении геометрических задач	1				
61	Применение свойств вписанных и описанных четырёхугольников при решении геометрических задач	1				
62	Взаимное расположение двух окружностей, общие касательные	1				Библиотека ЦОК <a href="https://m.edsoo.ru/8a1410a8">https://m.edsoo.ru/8a1410a8</a>
63	Касание окружностей	1				Библиотека ЦОК <a href="https://m.edsoo.ru/8a1410a8">https://m.edsoo.ru/8a1410a8</a>
64	Контрольная работа по теме "Углы в окружности. Вписанные и описанные четырёхугольники"	1	1			Библиотека ЦОК <a href="https://m.edsoo.ru/8a141c88">https://m.edsoo.ru/8a141c88</a>
65	Повторение основных понятий и методов курсов 7 и 8 классов, обобщение знаний	1				Библиотека ЦОК <a href="https://m.edsoo.ru/8a141ddc">https://m.edsoo.ru/8a141ddc</a>
66	Повторение основных понятий и методов курсов 7 и 8 классов, обобщение знаний	1				Библиотека ЦОК <a href="https://m.edsoo.ru/8a141efe">https://m.edsoo.ru/8a141efe</a>
67	Итоговая контрольная работа	1	1			Библиотека ЦОК <a href="https://m.edsoo.ru/8a142368">https://m.edsoo.ru/8a142368</a>
68	Повторение основных понятий и методов курсов 7 и 8 классов, обобщение знаний	1				Библиотека ЦОК <a href="https://m.edsoo.ru/8a1420ac">https://m.edsoo.ru/8a1420ac</a>
ОБЩЕЕ КОЛИЧЕСТВО ЧАСОВ ПО ПРОГРАММЕ		68	6	0		

## 9 КЛАСС

№ п/п	Тема урока	Количество часов			Дата изучен ия	Электронные цифровые образовательные ресурсы
		Всего	Контроль ные	Практичес кие работы		

			<b>работы</b>			
1	Определение тригонометрических функций углов от $0^\circ$ до $180^\circ$	1				Библиотека ЦОК <a href="https://m.edsoo.ru/8a1424bc">https://m.edsoo.ru/8a1424bc</a>
2	Формулы приведения	1				
3	Теорема косинусов	1				Библиотека ЦОК <a href="https://m.edsoo.ru/8a14336c">https://m.edsoo.ru/8a14336c</a>
4	Теорема косинусов	1				
5	Теорема косинусов	1				Библиотека ЦОК <a href="https://m.edsoo.ru/8a142d5e">https://m.edsoo.ru/8a142d5e</a>
6	Теорема синусов	1				Библиотека ЦОК <a href="https://m.edsoo.ru/8a142e8a">https://m.edsoo.ru/8a142e8a</a>
7	Теорема синусов	1				
8	Теорема синусов	1				
9	Нахождение длин сторон и величин углов треугольников	1				Библиотека ЦОК <a href="https://m.edsoo.ru/8a1430b0">https://m.edsoo.ru/8a1430b0</a>
10	Решение треугольников	1				Библиотека ЦОК <a href="https://m.edsoo.ru/8a142ac0">https://m.edsoo.ru/8a142ac0</a>
11	Решение треугольников	1				Библиотека ЦОК <a href="https://m.edsoo.ru/8a142ac0">https://m.edsoo.ru/8a142ac0</a>
12	Решение треугольников	1				Библиотека ЦОК <a href="https://m.edsoo.ru/8a142ac0">https://m.edsoo.ru/8a142ac0</a>
13	Решение треугольников	1				Библиотека ЦОК <a href="https://m.edsoo.ru/8a142ac0">https://m.edsoo.ru/8a142ac0</a>
14	Практическое применение теорем синусов и косинусов	1				Библиотека ЦОК <a href="https://m.edsoo.ru/8a142c3c">https://m.edsoo.ru/8a142c3c</a>
15	Практическое применение теорем синусов и косинусов	1				
16	Контрольная работа по теме "Решение треугольников"	1	1			Библиотека ЦОК <a href="https://m.edsoo.ru/8a14392a">https://m.edsoo.ru/8a14392a</a>

17	Понятие о преобразовании подобия	1				Библиотека ЦОК <a href="https://m.edsoo.ru/8a143ab0">https://m.edsoo.ru/8a143ab0</a>
18	Соответственные элементы подобных фигур	1				Библиотека ЦОК <a href="https://m.edsoo.ru/8a143de4">https://m.edsoo.ru/8a143de4</a>
19	Соответственные элементы подобных фигур	1				
20	Теорема о произведении отрезков хорд, теорема о произведении отрезков секущих, теорема о квадрате касательной	1				Библиотека ЦОК <a href="https://m.edsoo.ru/8a14406e">https://m.edsoo.ru/8a14406e</a>
21	Теорема о произведении отрезков хорд, теорема о произведении отрезков секущих, теорема о квадрате касательной	1				Библиотека ЦОК <a href="https://m.edsoo.ru/8a1441a4">https://m.edsoo.ru/8a1441a4</a>
22	Теорема о произведении отрезков хорд, теорема о произведении отрезков секущих, теорема о квадрате касательной	1				Библиотека ЦОК <a href="https://m.edsoo.ru/8a1442da">https://m.edsoo.ru/8a1442da</a>
23	Применение теорем в решении геометрических задач	1				Библиотека ЦОК <a href="https://m.edsoo.ru/8a143f06">https://m.edsoo.ru/8a143f06</a>
24	Применение теорем в решении геометрических задач	1				Библиотека ЦОК <a href="https://m.edsoo.ru/8a1443fc">https://m.edsoo.ru/8a1443fc</a>
25	Применение теорем в решении геометрических задач	1				Библиотека ЦОК <a href="https://m.edsoo.ru/8a144578">https://m.edsoo.ru/8a144578</a>
26	Контрольная работа по теме "Преобразование подобия. Метрические соотношения в окружности"	1	1			Библиотека ЦОК <a href="https://m.edsoo.ru/8a1447a8">https://m.edsoo.ru/8a1447a8</a>
27	Определение векторов. Физический и геометрический смысл векторов	1				Библиотека ЦОК <a href="https://m.edsoo.ru/8a144960">https://m.edsoo.ru/8a144960</a>
28	Сложение и вычитание векторов, умножение вектора на число	1				Библиотека ЦОК <a href="https://m.edsoo.ru/8a144a8c">https://m.edsoo.ru/8a144a8c</a>
29	Сложение и вычитание векторов, умножение вектора на число	1				Библиотека ЦОК <a href="https://m.edsoo.ru/8a144d52">https://m.edsoo.ru/8a144d52</a>
30	Сложение и вычитание векторов,	1				

	умножение вектора на число					
31	Разложение вектора по двум неколлинеарным векторам	1				
32	Координаты вектора	1				Библиотека ЦОК <a href="https://m.edsoo.ru/8a144fbe">https://m.edsoo.ru/8a144fbe</a>
33	Скалярное произведение векторов, его применение для нахождения длин и углов	1				Библиотека ЦОК <a href="https://m.edsoo.ru/8a14539c">https://m.edsoo.ru/8a14539c</a>
34	Скалярное произведение векторов, его применение для нахождения длин и углов	1				Библиотека ЦОК <a href="https://m.edsoo.ru/8a14550e">https://m.edsoo.ru/8a14550e</a>
35	Решение задач с помощью векторов	1				Библиотека ЦОК <a href="https://m.edsoo.ru/8a144c3a">https://m.edsoo.ru/8a144c3a</a>
36	Решение задач с помощью векторов	1				Библиотека ЦОК <a href="https://m.edsoo.ru/8a1458c4">https://m.edsoo.ru/8a1458c4</a>
37	Применение векторов для решения задач физики	1				
38	Контрольная работа по теме "Векторы"	1	1			Библиотека ЦОК <a href="https://m.edsoo.ru/8a145b08">https://m.edsoo.ru/8a145b08</a>
39	Декартовы координаты точек на плоскости	1				
40	Уравнение прямой	1				Библиотека ЦОК <a href="https://m.edsoo.ru/8a145c48">https://m.edsoo.ru/8a145c48</a>
41	Уравнение прямой	1				
42	Уравнение окружности	1				Библиотека ЦОК <a href="https://m.edsoo.ru/8a14635a">https://m.edsoo.ru/8a14635a</a>
43	Координаты точек пересечения окружности и прямой	1				Библиотека ЦОК <a href="https://m.edsoo.ru/8a146620">https://m.edsoo.ru/8a146620</a>
44	Метод координат при решении геометрических задач, практических задач	1				
45	Метод координат при решении геометрических задач, практических задач	1				

46	Метод координат при решении геометрических задач, практических задач	1				
47	Контрольная работа по теме "Декартовы координаты на плоскости"	1	1			Библиотека ЦОК <a href="https://m.edsoo.ru/8a146e0e">https://m.edsoo.ru/8a146e0e</a>
48	Правильные многоугольники, вычисление их элементов	1				Библиотека ЦОК <a href="https://m.edsoo.ru/8a146fda">https://m.edsoo.ru/8a146fda</a>
49	Число $\pi$ . Длина окружности	1				Библиотека ЦОК <a href="https://m.edsoo.ru/8a1472c8">https://m.edsoo.ru/8a1472c8</a>
50	Число $\pi$ . Длина окружности	1				Библиотека ЦОК <a href="https://m.edsoo.ru/8a14714c">https://m.edsoo.ru/8a14714c</a>
51	Длина дуги окружности	1				
52	Радианная мера угла	1				Библиотека ЦОК <a href="https://m.edsoo.ru/8a14714c">https://m.edsoo.ru/8a14714c</a>
53	Площадь круга, сектора, сегмента	1				Библиотека ЦОК <a href="https://m.edsoo.ru/8a147426">https://m.edsoo.ru/8a147426</a>
54	Площадь круга, сектора, сегмента	1				Библиотека ЦОК <a href="https://m.edsoo.ru/8a147750">https://m.edsoo.ru/8a147750</a>
55	Площадь круга, сектора, сегмента	1				Библиотека ЦОК <a href="https://m.edsoo.ru/8a147750">https://m.edsoo.ru/8a147750</a>
56	Понятие о движении плоскости	1				Библиотека ЦОК <a href="https://m.edsoo.ru/8a147c82">https://m.edsoo.ru/8a147c82</a>
57	Параллельный перенос, поворот	1				Библиотека ЦОК <a href="https://m.edsoo.ru/8a147f16">https://m.edsoo.ru/8a147f16</a>
58	Параллельный перенос, поворот	1				Библиотека ЦОК <a href="https://m.edsoo.ru/8a147f16">https://m.edsoo.ru/8a147f16</a>
59	Параллельный перенос, поворот	1				
60	Параллельный перенос, поворот	1				
61	Применение движений при решении задач	1				Библиотека ЦОК <a href="https://m.edsoo.ru/8a1480e2">https://m.edsoo.ru/8a1480e2</a>
62	Контрольная работа по темам	1	1			



	"Правильные многоугольники. Окружность. Движения плоскости"					
63	Повторение, обобщение, систематизация знаний. Измерение геометрических величин. Треугольники	1				Библиотека ЦОК <a href="https://m.edsoo.ru/8a148524">https://m.edsoo.ru/8a148524</a>
64	Повторение, обобщение, систематизация знаний. Параллельные и перпендикулярные прямые	1				Библиотека ЦОК <a href="https://m.edsoo.ru/8a148650">https://m.edsoo.ru/8a148650</a>
65	Повторение, обобщение, систематизация знаний. Окружность и круг. Геометрические построения. Углы в окружности	1				
66	Повторение, обобщение, систематизация знаний. Вписанные и описанные окружности многоугольников	1				
67	Итоговая контрольная работа	1	1			Библиотека ЦОК <a href="https://m.edsoo.ru/8a148920">https://m.edsoo.ru/8a148920</a>
68	Повторение, обобщение, систематизация знаний	1				
ОБЩЕЕ КОЛИЧЕСТВО ЧАСОВ ПО ПРОГРАММЕ		68	6	0		

**ПРОВЕРЯЕМЫЕ ТРЕБОВАНИЯ К РЕЗУЛЬТАТАМ ОСВОЕНИЯ ОСНОВНОЙ  
ОБРАЗОВАТЕЛЬНОЙ ПРОГРАММЫ  
7 КЛАСС**

<b>Код проверяем ого результата</b>	<b>Проверяемые предметные результаты освоения основной образовательной программы основного общего образования</b>
6	Геометрия
6.1	Распознавать изученные геометрические фигуры, определять их взаимное расположение, изображать геометрические фигуры, выполнять чертежи по условию задачи. Измерять линейные и угловые величины. Решать задачи на вычисление длин отрезков и величин углов
6.2	Делать грубую оценку линейных и угловых величин предметов в реальной жизни, размеров природных объектов. Различать размеры этих объектов по порядку величины
6.3	Строить чертежи к геометрическим задачам
6.4	Пользоваться признаками равенства треугольников, использовать признаки и свойства равнобедренных треугольников при решении задач
6.5	Проводить логические рассуждения с использованием геометрических теорем
6.6	Пользоваться признаками равенства прямоугольных треугольников, свойством медианы, проведённой к гипотенузе прямоугольного треугольника, в решении геометрических задач
6.7	Определять параллельность прямых с помощью углов, которые образует с ними секущая. Определять параллельность прямых с помощью равенства расстояний от точек одной прямой до точек другой прямой
6.8	Решать задачи на клетчатой бумаге
6.9	Проводить вычисления и находить числовые и буквенные значения углов в геометрических задачах с использованием суммы углов треугольников и многоугольников, свойств углов, образованных при пересечении двух параллельных прямых секущей. Решать практические задачи на нахождение углов
6.10	Владеть понятием геометрического места точек. Уметь определять биссектрису угла и серединный перпендикуляр к отрезку как геометрические места точек
6.11	Формулировать определения окружности и круга, хорды и диаметра окружности, пользоваться их свойствами. Уметь применять эти свойства при решении задач
6.12	Владеть понятием описанной около треугольника окружности, уметь находить её центр. Пользоваться фактами о том, что биссектрисы углов треугольника пересекаются в одной точке, и о том, что серединные перпендикуляры к сторонам треугольника пересекаются в одной точке
6.13	Владеть понятием касательной к окружности, пользоваться теоремой о перпендикулярности касательной и радиуса, проведённого к точке касания

6.14	Пользоваться простейшими геометрическими неравенствами, понимать их практический смысл
6.15	Проводить основные геометрические построения с помощью циркуля и линейки

## 8 КЛАСС

Код проверяемого результата	Проверяемые предметные результаты освоения основной образовательной программы основного общего образования
6	Геометрия
6.1	Распознавать основные виды четырёхугольников, их элементы, пользоваться их свойствами при решении геометрических задач
6.2	Применять свойства точки пересечения медиан треугольника (центра масс) в решении задач
6.3	Владеть понятием средней линии треугольника и трапеции, применять их свойства при решении геометрических задач. Пользоваться теоремой Фалеса и теоремой о пропорциональных отрезках, применять их для решения практических задач
6.4	Применять признаки подобия треугольников в решении геометрических задач
6.5	Пользоваться теоремой Пифагора для решения геометрических и практических задач. Строить математическую модель в практических задачах, самостоятельно делать чертёж и находить соответствующие длины
6.6	Владеть понятиями синуса, косинуса и тангенса острого угла прямоугольного треугольника. Пользоваться этими понятиями для решения практических задач
6.7	Вычислять (различными способами) площадь треугольника и площади многоугольных фигур (пользуясь, где необходимо, калькулятором). Применять полученные умения в практических задачах
6.8	Владеть понятиями вписанного и центрального угла, использовать теоремы о вписанных углах, углах между хордами (секущими) и угле между касательной и хордой при решении геометрических задач
6.9	Владеть понятием описанного четырёхугольника, применять свойства описанного четырёхугольника при решении задач
6.10	Применять полученные знания на практике – строить математические модели для задач реальной жизни и проводить соответствующие вычисления с применением подобия и тригонометрии (пользуясь, где необходимо, калькулятором)

## 9 КЛАСС

Код	Проверяемые предметные результаты освоения основной
-----	---

<b>проверяем ого результата</b>	<b>образовательной программы основного общего образования</b>
6	Геометрия
6.1	Знать тригонометрические функции острых углов, находить с их помощью различные элементы прямоугольного треугольника («решение прямоугольных треугольников»). Находить (с помощью калькулятора) длины и углы для нетабличных значений
6.2	Пользоваться формулами приведения и основным тригонометрическим тождеством для нахождения соотношений между тригонометрическими величинами
6.3	Использовать теоремы синусов и косинусов для нахождения различных элементов треугольника («решение треугольников»), применять их при решении геометрических задач
6.4	Владеть понятиями преобразования подобия, соответственных элементов подобных фигур. Пользоваться свойствами подобия произвольных фигур, уметь вычислять длины и находить углы у подобных фигур. Применять свойства подобия в практических задачах. Уметь приводить примеры подобных фигур в окружающем мире
6.5	Пользоваться теоремами о произведении отрезков хорд, о произведении отрезков секущих, о квадрате касательной
6.6	Пользоваться векторами, понимать их геометрический и физический смысл, применять их в решении геометрических и физических задач. Применять скалярное произведение векторов для нахождения длин и углов
6.7	Пользоваться методом координат на плоскости, применять его в решении геометрических и практических задач
6.8	Владеть понятиями правильного многоугольника, длины окружности, длины дуги окружности и радианной меры угла, уметь вычислять площадь круга и его частей. Применять полученные умения в практических задачах
6.9	Находить оси или центры симметрии фигур, применять движения плоскости в простейших случаях
6.10	Применять полученные знания на практике – строить математические модели для задач реальной жизни и проводить соответствующие вычисления с применением подобия и тригонометрических функций (пользуясь, где необходимо, калькулятором)

## **ПРОВЕРЯЕМЫЕ ЭЛЕМЕНТЫ СОДЕРЖАНИЯ**

### **7 КЛАСС**

<b>Код</b>	<b>Проверяемый элемент содержания</b>
6	Геометрия
6.1	Начальные понятия геометрии. Точка, прямая, отрезок, луч. Угол. Виды углов. Вертикальные и смежные углы. Биссектриса угла. Ломаная, многоугольник. Параллельность и перпендикулярность прямых
6.2	Симметричные фигуры. Основные свойства осевой симметрии. Примеры

	симметрии в окружающем мире
6.3	Основные построения с помощью циркуля и линейки. Треугольник. Высота, медиана, биссектриса, их свойства
6.4	Равнобедренный и равносторонний треугольники. Неравенство треугольника
6.5	Свойства и признаки равнобедренного треугольника. Признаки равенства треугольников
6.6	Свойства и признаки параллельных прямых. Сумма углов треугольника. Внешние углы треугольника
6.7	Прямоугольный треугольник. Свойство медианы прямоугольного треугольника, проведённой к гипотенузе. Признаки равенства прямоугольных треугольников. Прямоугольный треугольник с углом в $30^\circ$
6.8	Неравенства в геометрии: неравенство треугольника, неравенство о длине ломаной, теорема о большем угле и большей стороне треугольника. Перпендикуляр и наклонная
6.9	Геометрическое место точек. Биссектриса угла и серединный перпендикуляр к отрезку как геометрические места точек
6.10	Окружность и круг, хорда и диаметр, их свойства. Взаимное расположение окружности и прямой. Касательная и секущая к окружности
6.11	Окружность, вписанная в угол. Вписанная и описанная окружности треугольника

## 8 КЛАСС

Код	Проверяемый элемент содержания
6	Геометрия
6.1	Четырёхугольники. Параллелограмм, его признаки и свойства
6.2	Прямоугольник, ромб, квадрат, их признаки и свойства
6.3	Трапеция, равнобокая трапеция, её свойства и признаки. Прямоугольная трапеция
6.4	Метод удвоения медианы. Центральная симметрия. Теорема Фалеса и теорема о пропорциональных отрезках
6.5	Средние линии треугольника и трапеции. Центр масс треугольника
6.6	Подобие треугольников, коэффициент подобия. Признаки подобия треугольников. Применение подобия при решении практических задач
6.7	Формулы для площади треугольника, параллелограмма, ромба и трапеции
6.8	Свойства площадей геометрических фигур. Отношение площадей подобных фигур
6.9	Вычисление площадей треугольников и многоугольников на клетчатой бумаге
6.10	Теорема Пифагора. Применение теоремы Пифагора при решении практических задач
6.11	Синус, косинус, тангенс острого угла прямоугольного треугольника. Основное тригонометрическое тождество. Тригонометрические функции углов в $30^\circ$ , $45^\circ$ и $60^\circ$

6.12	Вписанные и центральные углы, угол между касательной и хордой. Углы между хордами и секущими
6.13	Вписанные и описанные четырёхугольники
6.14	Взаимное расположение двух окружностей. Касание окружностей. Общие касательные к двум окружностям

## 9 КЛАСС

Код	Проверяемый элемент содержания
6	Геометрия
6.1	Синус, косинус, тангенс углов от 0 до 180°. Основное тригонометрическое тождество. Формулы приведения
6.2	Решение треугольников. Теорема косинусов и теорема синусов. Решение практических задач с использованием теоремы косинусов и теоремы синусов
6.3	Преобразование подобия. Подобие соответственных элементов
6.4	Теорема о произведении отрезков хорд, теоремы о произведении отрезков секущих, теорема о квадрате касательной
6.5	Вектор, длина (модуль) вектора, сонаправленные векторы, противоположно направленные векторы, коллинеарность векторов, равенство векторов, операции над векторами. Разложение вектора по двум неколлинеарным векторам
6.6	Координаты вектора. Скалярное произведение векторов, применение для нахождения длин и углов
6.7	Декартовы координаты на плоскости. Уравнения прямой и окружности в координатах, пересечение окружностей и прямых. Метод координат и его применение
6.8	Правильные многоугольники
6.9	Длина окружности. Градусная и радианная мера угла, вычисление длин дуг окружностей
6.10	Площадь круга, сектора, сегмента
6.11	Движения плоскости и внутренние симметрии фигур (элементарные представления). Параллельный перенос. Поворот

## ПРОВЕРЯЕМЫЕ НА ОГЭ ПО МАТЕМАТИКЕ ТРЕБОВАНИЯ К РЕЗУЛЬТАТАМ ОСВОЕНИЯ ОСНОВНОЙ ОБРАЗОВАТЕЛЬНОЙ ПРОГРАММЫ ОСНОВНОГО ОБЩЕГО ОБРАЗОВАНИЯ

Код проверяемого требования	Проверяемые требования к предметным результатам освоения основной образовательной программы основного общего образования на основе ФГОС
1	Умение оперировать понятиями: множество, подмножество, операции над множествами; умение оперировать понятиями: граф, связный граф, дерево, цикл, применять их при решении задач; умение использовать графическое представление множеств для описания реальных процессов и явлений, при

	решении задач из других учебных предметов
2	Умение оперировать понятиями: определение, аксиома, теорема, доказательство; умение распознавать истинные и ложные высказывания, приводить примеры и контрпримеры, строить высказывания и отрицания высказываний
3	Умение оперировать понятиями: натуральное число, простое и составное число, делимость натуральных чисел, признаки делимости, целое число, модуль числа, обыкновенная дробь и десятичная дробь, стандартный вид числа, рациональное число, иррациональное число, арифметический квадратный корень; умение выполнять действия с числами, сравнивать и упорядочивать числа, представлять числа на координатной прямой, округлять числа; умение делать прикидку и оценку результата вычислений
4	Умение оперировать понятиями: степень с целым показателем, арифметический квадратный корень, многочлен, алгебраическая дробь, тождество; знакомство с корнем натуральной степени больше единицы; умение выполнять расчёты по формулам, преобразования целых, дробно-рациональных выражений и выражений с корнями, разложение многочлена на множители, в том числе с использованием формул разности квадратов и квадрата суммы и разности
5	Умение оперировать понятиями: числовое равенство, уравнение с одной переменной, числовое неравенство, неравенство с переменной; умение решать линейные и квадратные уравнения, дробно-рациональные уравнения с одной переменной, системы двух линейных уравнений, линейные неравенства и их системы, квадратные и дробно-рациональные неравенства с одной переменной, в том числе при решении задач из других предметов и практических задач; умение использовать координатную прямую и координатную плоскость для изображения решений уравнений, неравенств и систем
6	Умение оперировать понятиями: функция, график функции, нули функции, промежутки знакопостоянства, промежутки возрастания, убывания, наибольшее и наименьшее значения функции; умение оперировать понятиями: прямая пропорциональность, линейная функция, квадратичная функция, обратная пропорциональность, парабола, гипербола; умение строить графики функций, использовать графики для определения свойств процессов и зависимостей, для решения задач из других учебных предметов и реальной жизни; умение выражать формулами зависимости между величинами
7	Умение оперировать понятиями: последовательность, арифметическая и геометрическая прогрессии; умение использовать свойства последовательностей, формулы суммы и общего члена при решении задач, в том числе задач из других учебных предметов и реальной жизни
8	Умение решать задачи разных типов (в том числе на проценты, доли и части, движение, работу, цену товаров и стоимость покупок и услуг, налоги, задачи из области управления личными и семейными финансами); умение составлять выражения, уравнения, неравенства и системы по условию задачи, исследовать полученное решение и оценивать правдоподобность полученных результатов

9	Умение оперировать понятиями: фигура, точка, отрезок, прямая, луч, ломаная, угол, многоугольник, треугольник, равнобедренный и равносторонний треугольники, прямоугольный треугольник, медиана, биссектриса и высота треугольника, четырёхугольник, параллелограмм, ромб, прямоугольник, квадрат, трапеция; окружность, круг, касательная; знакомство с пространственными фигурами; умение решать задачи, в том числе из повседневной жизни, нахождение геометрических величин с применением изученных свойств фигур и фактов
10	Умение оперировать понятиями: равенство фигур, равенство треугольников; параллельность и перпендикулярность прямых, угол между прямыми, перпендикуляр, наклонная, проекция, подобие фигур, подобные треугольники, симметрия относительно точки и прямой; умение распознавать равенство, симметрию и подобие фигур, параллельность и перпендикулярность прямых в окружающем мире
11	Умение оперировать понятиями: длина, расстояние, угол (величина угла, синус и косинус угла треугольника), площадь; умение оценивать размеры предметов и объектов в окружающем мире; умение применять формулы периметра и площади многоугольников, длины окружности и площади круга, объема прямоугольного параллелепипеда; умение применять признаки равенства треугольников, теорему о сумме углов треугольника, теорему Пифагора, тригонометрические соотношения для вычисления длин, расстояний, площадей
12	Умение изображать плоские фигуры и их комбинации, пространственные фигуры от руки, с помощью чертёжных инструментов и электронных средств по текстовому или символьному описанию
13	Умение оперировать понятиями: прямоугольная система координат; координаты точки, вектор, сумма векторов, произведение вектора на число, скалярное произведение векторов; умение использовать векторы и координаты для представления данных и решения задач, в том числе из других учебных предметов и реальной жизни
14	Умение оперировать понятиями: столбиковые и круговые диаграммы, таблицы, среднее арифметическое, медиана, наибольшее и наименьшее значения, размах числового набора; умение извлекать, интерпретировать и преобразовывать информацию, представленную в таблицах и на диаграммах, отражающую свойства и характеристики реальных процессов и явлений; умение распознавать изменчивые величины в окружающем мире
15	Умение оперировать понятиями: случайный опыт (случайный эксперимент), элементарное событие (элементарный исход) случайного опыта, случайное событие, вероятность события; умение находить вероятности случайных событий в опытах с равновероятными элементарными событиями; умение решать задачи методом организованного перебора и с использованием правила умножения; умение оценивать вероятности реальных событий и явлений, понимать роль практически достоверных и маловероятных событий в окружающем мире и в жизни; знакомство с понятием независимых событий; знакомство с законом больших чисел и его ролью в массовых явлениях
16	Умение выбирать подходящий изученный метод для решения задачи,



	приводить примеры математических закономерностей в природе и жизни, распознавать проявление законов математики в искусстве, описывать отдельные выдающиеся результаты, полученные в ходе развития математики как науки, приводить примеры математических открытий и их авторов в отечественной и всемирной истории
--	--

## ПЕРЕЧЕНЬ ЭЛЕМЕНТОВ СОДЕРЖАНИЯ, ПРОВЕРЯЕМЫХ НА ОГЭ ПО МАТЕМАТИКЕ

Код	Проверяемый элемент содержания
1	Числа и вычисления
1.1	Натуральные и целые числа. Признаки делимости целых чисел
1.2	Обыкновенные и десятичные дроби, проценты, бесконечные периодические дроби
1.3	Рациональные числа. Арифметические операции с рациональными числами
1.4	Действительные числа. Арифметические операции с действительными числами
1.5	Приближённые вычисления, правила округления, прикидка и оценка результата вычислений
2	Алгебраические выражения
2.1	Буквенные выражения (выражения с переменными)
2.2	Степень с целым показателем. Степень с рациональным показателем. Свойства степени
2.3	Многочлены
2.4	Алгебраическая дробь
2.5	Арифметический корень натуральной степени. Действия с арифметическими корнями натуральной степени
3	Уравнения и неравенства
3.1	Целые и дробно-рациональные уравнения. Системы и совокупности уравнений
3.2	Целые и дробно-рациональные неравенства. Системы и совокупности неравенств
3.3	Решение текстовых задач
4	Числовые последовательности
4.1	Последовательности, способы задания последовательностей
4.2	Арифметическая и геометрическая прогрессии. Формула сложных процентов
5	Функции
5.1.	Функция, способы задания функции. График функции. Область определения и множество значений функции. Нули функции. Промежутки знакопостоянства. Промежутки монотонности функции. Максимумы и минимумы функции. Наибольшее и наименьшее значение функции на промежутке
6	Координаты на прямой и плоскости
6.1	Координатная прямая
6.2	Декартовы координаты на плоскости
7	Геометрия

7.1	Геометрические фигуры и их свойства
7.2	Треугольник
7.3	Многоугольники
7.4	Окружность и круг
7.5	Измерение геометрических величин
7.6	Векторы на плоскости
8	Вероятность и статистика
8.1	Описательная статистика
8.2	Вероятность
8.3	Комбинаторика
8.4	Множества
8.5	Графы

## **КОРРЕКЦИОННО-РАЗВИВАЮЩИЙ БЛОК.**

Одной из основных функций Федерального государственного образовательного стандарта основного общего образования является реализация права каждого ребёнка на полноценное образование, отвечающее его потребностям и в полной мере использующее возможности его развития.

Поэтому, в образовательном учреждении необходимо создать оптимальные условия для развития личности каждого ребёнка, раскрывающие его внутренние возможности и резервы, организовать коррекционно-развивающую, реабилитационную и здоровьесберегающую среду, обеспечивающую частичное восстановление и сохранение физического и психического здоровья, необходимого для продолжения обучения.

Программа коррекционной работы направлена на обеспечение коррекции недостатков в физическом и (или) психическом развитии детей с ограниченными возможностями здоровья и оказание помощи детям с ограниченными возможностями здоровья в освоении основной образовательной программы.

Цель программы коррекционной работы заключается в определении комплексной системы психолого-медико-педагогической и социальной помощи обучающимся с ОВЗ для успешного освоения основной образовательной программы на основе компенсации первичных нарушений и пропедевтики производных отклонений в развитии, активизации ресурсов социально-психологической адаптации личности ребенка.

Задачи отражают разработку и реализацию содержания основных направлений коррекционной работы (диагностическое, коррекционно-развивающее, консультативное, информационно-просветительское). В соответствии с целью программы коррекционной работы выделены следующие задачи:

- определение особых образовательных потребностей обучающихся с ОВЗ и оказание им специализированной помощи при освоении основной образовательной программы основного общего образования;
- определение оптимальных специальных условий для получения основного общего образования обучающимися с ОВЗ, для развития их личностных, познавательных, коммуникативных способностей;
- разработка и использование индивидуально-ориентированных коррекционных образовательных программ, учебных планов для обучения школьников с ОВЗ с учетом особенностей их психофизического развития, индивидуальных возможностей;
- реализация комплексного психолого-медико-социального сопровождения обучающихся с ОВЗ (в соответствии с рекомендациями психолого-медико-педагогической комиссии (ПМПК), психолого-педагогического консилиума образовательной организации (ППК));
- реализация комплексной системы мероприятий по социальной адаптации и профессиональной ориентации обучающихся с ОВЗ;
- обеспечение сетевого взаимодействия специалистов разного профиля в комплексной работе с обучающимися с ОВЗ;
- осуществление информационно-просветительской и консультативной работы с родителями (законными представителями) обучающихся с ОВЗ.

Существующие дидактические принципы (систематичности, активности, доступности, последовательности, наглядности и др.) возможно адаптировать с учетом категорий обучаемых школьников.

В программу включены специальные принципы, ориентированные на учет особенностей обучающихся с ОВЗ, такие, как:

- принцип системности – единство в подходах к диагностике, обучению и коррекции нарушений детей с ОВЗ, взаимодействие учителей и специалистов различного профиля в решении проблем этих детей;
- принцип обходного пути – формирование новой функциональной системы в обход пострадавшего звена, опоры на сохранные анализаторы;
- принцип комплексности – преодоление нарушений должно носить комплексный медико-психолого-педагогический характер и включать совместную работу педагогов и ряда специалистов (учитель-логопед, учитель-дефектолог (олигофренопедагог, сурдопедагог, тифлопедагог), педагог-психолог, медицинские работники, социальный педагог и др.).

### **Направления работы**

Программа коррекционной работы школы на уровне основного общего образования включает в себя взаимосвязанные модули (направления), отражающие её основное содержание:

- *диагностическая работа* обеспечивает своевременное выявление детей с ограниченными возможностями здоровья, проведение их педагогического обследования и подготовку рекомендаций по оказанию им психолого-медико-педагогической помощи в условиях образовательного учреждения;
- *коррекционно-развивающая работа* обеспечивает своевременную специализированную помощь в освоении содержания основной образовательной программы основного общего образования и коррекцию недостатков в физическом и психическом развитии детей с ограниченными возможностями здоровья в условиях общеобразовательного учреждения; способствует формированию универсальных учебных действий у учащихся (личностных, регулятивных, познавательных, коммуникативных);
- *консультативная работа* обеспечивает непрерывность специального сопровождения детей с ограниченными возможностями здоровья и их семей по вопросам реализации дифференцированных психолого-педагогических условий обучения, воспитания, коррекции, развития и социализации учащихся;
- *информационно-просветительская работа* направлена на разъяснительную деятельность по вопросам, связанным с особенностями образовательного процесса для данной категории детей, со всеми участниками образовательного процесса — учащимися (как имеющими, так и не имеющими недостатки в развитии), их родителями (законными представителями), педагогическими работниками.

### **Трудности в изучении математики**

- неспособность записать число (величину) и дать его (ее) характеристику
- проблемы пространственной ориентировки, неразличение, неправильное название геометрических фигур, форм окружающего;
- смешение математических понятий (периметр и площадь, частное и разность и т.п.);
- неспособность установить зависимость между величинами (часть- целое; скорость-время-длина пути при равномерном прямолинейном движении; цена-количество стоимость и др.), решить текстовую задачу в 1-2 действия;
- неумение пользоваться математической терминологией;
- неумение применить алгоритм (способ, прием) выполнения арифметического действия;
- неумение использовать свойства арифметических действий при выполнении вычислений;

- неспособность установить порядок действий в числовом выражении и найти его значение с использованием изученных алгоритмов;
- проблемы в понимании математических отношений (больше/меньше, выше/ниже, дороже/дешевле; «больше/меньше на...», «больше/меньше в ...», «на сколько (во сколько раз) больше/меньше» и др.).

**Общая характеристика общеучебных трудностей обучения:**

- неумение включиться в учебную работу; неспособность самостоятельно начать выполнение задания;
- неготовность выполнять задание без пошаговой инструкции и помощи;
- непонимание, неумение выполнить многокомпонентное задание (состоящее из нескольких простых);
- недостаточная осознанность в усвоении и применении алгоритмов (правил);
- неумение пользоваться полученными знаниями-умениями при решении стандартных учебных и практических задач;
- неспособность учесть все условия и этапы решения задания в ходе его выполнения (неполное выполнение задания);
- смешение (подмена) алгоритмов, понятий; нарушение последовательности шагов алгоритма при его выполнении;
- подмена задания (логически и алгоритмически более простым);
- неспособность контролировать ход (процесс) и результат выполнения задания;
- неумение понять и объяснить причину своей ошибки, исправить ее;
- неумение применить знания в нестандартной ситуации;
- неумение решить учебную задачу с использованием «другого» приема (способа), сравнить решения по степени рациональности.

**Общая характеристика трудностей межличностных отношений**

**Характер взаимодействия ученика и учителя:**

- непонимание, неготовность услышать учителя (взрослого), психологическая «несовместимость» (по результатам выполнения теста «Портрет учителя»);
- боязнь критики, негативной оценки;
- отсутствие положительного опыта общения со взрослыми.

**Взаимодействие ученика и других учеников:**

- эгоцентричность, неумение общаться,
- повышенная тревожность (по результатам выполнения теста «Цветные шарики»);
- неумение с собой совместную деятельность (по результатам выполнения теста «Рукавички»);
- заниженная (завышенная) самооценка (по результатам выполнения теста «Лестница», «Семья»).
- другие трудности...

**Программа коррекционной работы направлена на:**

- преодоление затруднений учащихся в учебной деятельности;
- овладение навыками адаптации учащихся к социуму;
- развитие творческого потенциала учащихся (одаренных детей);
- развитие потенциала учащихся с ограниченными возможностями.

**1) Преодоление затруднений учащихся в учебной деятельности**

Оказание помощи учащимся в преодолении их затруднений в учебной деятельности проводится педагогами на уроках.

На основе применения технологии деятельностного метода обучения у учащихся последовательно и поэтапно формируется понимание нормы учения (что мне «надо» делать как ученику). Одновременно для формирования у учащихся внутренней потребности включения в учебную деятельность («я это хочу») в классе создается психологически комфортная образовательная среда, где ребенок не боится высказать свое мнение, где его трудолюбие, старание, ответственное отношение к делу встречает доброжелательную поддержку, где он приобретает позитивный опыт переживания ситуации успеха, а с другой стороны ? обеспечивается возможность его развития в собственном темпе на уровне своего возможного максимума («я это могу»).

Технологически это обеспечивается реализацией в учебном процессе по всем учебным предметам деятельностного метода обучения и соответствующей системы дидактических принципов (принципов психологической комфортности, минимакса, вариативности, деятельности, непрерывности).

**В курсе «Геометрия»** созданию психологически комфортной образовательной среды способствует содержание заданий, которое подобрано так, чтобы поддерживать у учащихся позитивное отношение к занятиям математикой и желание включаться в учебный процесс по математике в зоне своего ближайшего развития. С этой целью используются следующие педагогически приемы:

- включение в учебное содержание заданий, выполнение которых дает детям положительный эмоциональный заряд (разгадывание ребусов, решение занимательных задач, игровые ситуации и соревнования, расшифровка слов, построение изображений после вычислений и т.д.);
- включение заданий, содержание которых вызывает у учащихся интерес;
- разнообразие видов деятельности, выполняемых учеником на уроке;
- учет гендерных особенностей психологического развития детей;
- оптимизация количества выполняемых заданий и осваиваемых при этом операций;

По мере освоения учащимися нормы учебной деятельности, понимания и принятия ими на личностно значимом уровне социальной роли «ученика» внешние мотивы сменяются внутренними, и у учащихся формируется устойчивая учебно-познавательная мотивация и готовность к саморазвитию. Так же задания коррекционного блока включены в деятельность учителя на каждом уроке математики.

## Контрольно-измерительные материалы промежуточной аттестации

7 класс

### Контрольная работа за 1 четверть

В-1

1. На прямой  $b$  отмечены точки  $M, K, N$ , причём  $MK = 6$  см,  $KN = 8$  см. Чему может быть равна длина отрезка  $MN$ ?
2. Луч  $OC$  делит угол  $AOB$  на два угла. Найдите угол  $COB$ , если  $\angle AOB = 110^\circ$ , а угол  $AOC$  на  $18^\circ$  меньше угла  $BOC$ .
3. Один из смежных углов на  $34^\circ$  меньше другого. Найдите эти смежные углы.

В-2

1. На прямой  $a$  отмечены точки  $C, D, E$ , причём  $CD = 7$  см,  $DE = 10$  см. Чему может быть равна длина отрезка  $CE$ ?
2. Луч  $OK$  делит угол  $DOC$  на два угла. Найдите угол  $COK$ , если  $\angle DOC = 120^\circ$ , а угол  $KOD$  на  $12^\circ$  больше угла  $COK$ .
3. Один из смежных углов в 9 раз больше другого. Найдите эти смежные углы.

Ответы.

№ п/п	Вариант 1	Вариант 2
1	14; 2	17; 3
2	64	54
3	73; 107	18; 162

### Контрольная работа за 2 четверть

В-1

1. Отрезки  $AB$  и  $CD$  пересекаются в точке  $O$ . Докажите равенство треугольников  $ACO$  и  $DBO$ , если известно, что угол  $ACO$  равен углу  $DBO$  и  $BO = CO$ .
2. В треугольнике  $ABC$  провели высоту  $BH$ , угол  $CAB$  равен  $50^\circ$ , угол  $HBC$  равен  $40^\circ$ . Найдите сторону  $AC$ , если  $BA = 5$  см, а периметр треугольника равен 17.
3. Периметр равнобедренного треугольника равен 57, а одна из его сторон равна 27. Найдите стороны этого треугольника. В ответе запишите меньшую из сторон.

В-2

1. Отрезки  $AC$  и  $BD$  пересекаются в точке  $O$ . Докажите равенство треугольников  $BAO$  и  $DCO$ , если известно, что угол  $BAO$  равен углу  $DCO$  и  $AO = CO$ .
2. В треугольнике  $MPK$  провели высоту  $PH$ , угол  $KMP$  равен  $70^\circ$ , угол  $HPK$  равен  $20^\circ$ . Найдите сторону  $MK$ , если  $PM = 8$  см, а периметр треугольника равен 20.
3. Периметр равнобедренного треугольника равен 88, а одна из его сторон равна 20. Найдите стороны этого треугольника. В ответе запишите большую из сторон.

Ответы.

№ п/п	Вариант 1	Вариант 2
1	доказательство	доказательство
2	7	4
3	3	48

### Контрольная работа за 3 четверть

В-1

1. В треугольнике  $ABC$   $\angle C = 90^\circ$ , внешний угол при вершине  $B$  равен  $150^\circ$ ,  $AA_1$  – биссектриса,  $AA_1 = 20$  см. Найдите  $A_1C$ .
2. Один из внутренних односторонних углов, образованных при пересечении двух параллельных прямых третьей прямой, больше другого на  $64^\circ$ . Чему равны эти углы?
3. Градусные меры углов треугольника относятся как  $3:5:7$ . Найдите градусную меру меньшего из углов треугольника.

В-2

1. В треугольнике  $ABC$   $\angle B = 90^\circ$ ,  $CC_1$  – биссектриса,  $CC_1 = 16$  см,  $BC_1 = 8$  см. Найдите внешний угол при вершине  $A$ .
2. Один из внутренних односторонних углов, образованных при пересечении двух параллельных прямых третьей прямой, в 3 раза больше другого. Чему равны эти углы?
3. Градусные меры углов треугольника относятся как  $1:2:3$ . Найдите градусную меру большего из углов треугольника.

**Ответы.**

№ п/п	Вариант 1	Вариант 2
1	10	150
2	58 и 122	45 и 135
3	36	90

**Контрольная работа за 4 четверть**

В-1

1. Из точки  $A$  проведены две касательные к окружности с центром в точке  $O$ . Найдите расстояние от точки  $A$  до точки  $O$ , если угол между касательными равен  $60^\circ$ , а радиус окружности равен 6 см.
2. Касательные в точках  $A$  и  $B$  к окружности с центром  $O$  пересекаются под углом  $68^\circ$ . Найдите угол  $AOB$ . Ответ дайте в градусах.
3.  $AB$  – диаметр окружности с центром в точке  $O$ ,  $BC$  – хорда. Известно, что  $\angle AOC = 130^\circ$ . Найдите градусные меры углов  $\triangle AOC$ .

В-2

1. Из точки  $A$  проведены две касательные к окружности с центром в точке  $O$ . Найдите расстояние от точки  $A$  до точки  $O$ , если угол между касательными равен  $60^\circ$ , а радиус окружности равен 8 см.
2. В угол  $C$  величиной  $107^\circ$  вписана окружность, которая касается сторон угла в точках  $A$  и  $B$ . Найдите угол  $AOB$ . Ответ дайте в градусах.
3.  $AB$  – диаметр окружности с центром в точке  $O$ ,  $BC$  – хорда. Известно, что  $\angle AOC = 70^\circ$ . Найдите градусные меры углов  $\triangle ABC$ .

**Ответы.**

№ п/п	Вариант 1	Вариант 2
1	12 см	16 см
2	$112^\circ$	$73^\circ$
3	$90^\circ, 25^\circ, 65^\circ$	$90^\circ, 55^\circ, 35^\circ$



## Контрольно-измерительные материалы промежуточной аттестации

### Контрольная работа за 1 четверть 8 класс

#### Вариант 1

1. Периметр параллелограмма 50 см. Одна из его сторон на 5 см больше другой. Найдите длины сторон параллелограмма.
2. Найдите угол между диагоналями прямоугольника, если каждая из них делит угол прямоугольника в отношении 4 : 5.
3. Найдите углы параллелограмма, если одна из его диагоналей является высотой и равна одной из его сторон.
4. В трапеции ABCD диагональ BD перпендикулярна боковой стороне AB,  $\angle ADB = \angle BDC = 30^\circ$ . Найдите длину AD, если периметр трапеции 60 см.

#### Вариант 2

1. Периметр параллелограмма 60 см. Одна из его сторон на 6 см меньше другой. Найдите длины сторон параллелограмма.
2. Угол между диагоналями прямоугольника равен  $80^\circ$ . Найдите угол между диагональю и меньшей стороной прямоугольника.
3. Найдите углы параллелограмма, если одна из его диагоналей является высотой и равна половине неперпендикулярной к ней стороны параллелограмма.
4. В трапеции ABCD диагональ AC перпендикулярна боковой стороне CD и является биссектрисой угла A. Найдите длину AB, если периметр трапеции равен 35 см,  $\angle D = 60^\circ$ .

#### Ответы

Вариант 1	Вариант 2
1. 10см, 15см, 10см, 15см	1. 18см, 12см, 18см, 12см
2. $80^\circ$	2. $50^\circ$
3. $45^\circ, 135^\circ, 45^\circ, 135^\circ$	3. $30^\circ, 150^\circ, 30^\circ, 150^\circ$
4. 24см	4. 7см

### Контрольная работа за 2 четверть 8 класс

#### Вариант 1

1. Треугольник BCD подобен треугольнику  $B_1C_1D_1$ . Известно, что  $BC=5$  см,  $CD=10$  см,  $BD=7$  см. Найдите стороны треугольника  $B_1C_1D_1$ , если коэффициент подобия равен 2.
2. Две сходственные стороны подобных треугольников равны 2см и 5см. Площадь первого треугольника  $8\text{см}^2$ . Чему равна площадь второго треугольника?
3. AB и CD пересекаются в точке O.  $AO=12\text{см}$ ,  $BO=4\text{см}$ ,  $CO=30\text{см}$ ,  $DO=10\text{см}$ ,

- $\angle DBO = 61^\circ$ ,  $\angle DOB = 52^\circ$ . Чему равен  $\angle ACO$ ?
4. На сторонах  $AB$  и  $BC$  треугольника  $ABC$  отмечены точки  $M$  и  $P$  так, что  $AM = MB$ ,  $BP = CP$ ,  $AC = 14$  см. Чему равен отрезок  $MP$ ?

## Вариант 2

- Треугольник  $DEF$  подобен треугольнику  $D_1E_1F_1$  с коэффициентом подобия 4. Найдите стороны треугольника  $D_1E_1F_1$ , если  $DE = 12$  см,  $DF = 8$  см,  $EF = 18$  см.
- Площади двух подобных треугольников равны  $16\text{см}^2$  и  $25\text{см}^2$ . Одна из сторон первого треугольника равна 2 см. Чему равна сходственная сторона второго треугольника?
- Продолжения боковых сторон  $AB$  и  $CD$  трапеции  $ABCD$  пересекаются в точке  $O$ .  $AD = 5$  см,  $BC = 2$  см,  $AO = 25$  см. Чему равен отрезок  $BO$ ?
- На сторонах  $AB$  и  $BC$  треугольника  $ABC$  отмечены точки  $K$  и  $E$  так, что  $AK = KB$ ,  $BE = CE$ ,  $KE = 6$  см. Чему равна длина  $AC$ ?

## Ответы

Вариант 1	Вариант 2
1. 10 см, 20 см, 14 см	1. 48 см, 32 см, 72 см
2. $50\text{см}^2$	2. 2,5 см
3. $67^\circ$	3. 10 см
4. 7 см	4. 12 см

## Контрольная работа за 3 четверть 8 класс

### Вариант 1

1. Смежные стороны параллелограмма равны 52 см и 30 см, а острый угол равен  $30^\circ$ . Найдите площадь параллелограмма.
2. Вычислите площадь трапеции ABCD с основаниями AD и BC, если  $AD = 24$  см,  $BC = 16$  см,  $\angle A = 45^\circ$ ,  $\angle D = 90^\circ$ .
3. Сторона ромба равна 10 см, а одна из его диагоналей – 16 см. Найдите вторую диагональ.
4. Дан треугольник ABC. На стороне AC отмечена точка C так, что  $AK = 6$  см,  $KC = 9$  см. Найдите площади треугольников ABK и CBK, если  $AB = 13$  см,  $BC = 14$  см.

## Вариант 2

1. Высота BK, проведенная к стороне AD параллелограмма ABCD, делит эту сторону на два отрезка  $AK = 7$  см,  $KD = 15$  см. Найдите площадь параллелограмма, если  $\angle A = 45^\circ$ .
2. Вычислите площадь трапеции ABCD с основаниями AD и BC, если  $BC = 13$  см,  $AD = 27$  см,  $CD = 10$  см,  $\angle D = 30^\circ$ .
3. Диагонали ромба равны 14 см. и 48 см. Найдите сторону ромба.
4. Дан треугольник MKP. На стороне МК отмечена точка Т так, что  $MT = 5$  см,  $KT = 10$  см. Найдите площади треугольников MPT и KPT, если  $MP = 12$  см,  $KP = 9$  см.

## Ответы

Вариант 1	Вариант 2
1. $780 \text{ см}^2$	1. $154 \text{ см}^2$
2. $160 \text{ см}^2$	2. $100 \text{ см}^2$
3. 6 см	3. 25 см
4. $33,6 \text{ см}^2$ , $50,4 \text{ см}^2$	4. $36 \text{ см}^2$ , $18 \text{ см}^2$

## Итоговая контрольная работа 8 класс

### Вариант 1

1. Найдите площадь равнобедренного треугольника со сторонами 10 см, 10 см и 12 см.

2. В параллелограмме две стороны 12см и 16 см, а один из углов  $150^\circ$ . Найдите площадь параллелограмма.
3. Основания трапеции 17см и 22см, площадь равна  $390\text{см}^2$ . Найдите высоту трапеции.
4. Хорда АВ пересекает диаметр CD окружности с центром О в точке К. Найдите хорду АВ, если  $AK=11\text{см}$ ,  $CK=3\text{см}$ ,  $OD=12,5\text{см}$ .
5. Длина солнечной тени от дерева равна 24 м. Вертикальный шест высотой 1 м 50 см тот же момент отбрасывает тень длиной 1 м 60 см. Вычислите высоту дерева.

### Вариант 2

1. В равнобедренном треугольнике боковая сторона равна 13 см, а высота, проведенная к основанию, 5 см. Найдите площадь этого треугольника.
2. В параллелограмме ABCD  $AB=8\text{см}$ ,  $AD=10\text{см}$ ,  $\angle A=30^\circ$ . Найдите площадь параллелограмма.
3. Основание трапеции равно 23см, высота 5см, а площадь равна  $150\text{см}^2$ . Найдите второе основание трапеции.
4. Диаметр АВ окружности с центром О пересекает хорду CD в точке М. Найдите хорду CD, если  $CM=8\text{см}$ ,  $AM=6\text{см}$ ,  $OB=11\text{см}$ .
5. Найдите длину солнечной тени от здания высотой 11,7 м, если солнечная тень от человека ростом 1,8 м равна 2 м.

### Ответы

Вариант 1	Вариант 2
1. $48\text{см}^2$	1. $60\text{см}^2$
2. $96\text{см}^2$	2. $40\text{см}^2$
3. 10см	3. 37см
4. 17см	4. 20см
5. 22,5 м	5. 13 м

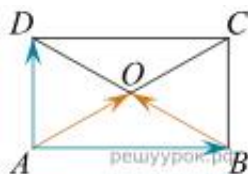
Контрольно-измерительные материалы промежуточной аттестации

9 класс

Контрольная работа за 1 четверть

Вариант 1

1. Найдите координаты вектора равного  $-3\vec{a} + 2\vec{b}$ , если даны векторы  $\vec{a}\{5; -2\}$  и  $\vec{b}\{-2; 1\}$
2. Даны точки  $A(-7;3)$  и  $B(3;5)$ , являющиеся вершинами треугольника  $ABC$ . Найдите координаты точки  $K$ , лежащей на стороне  $AB$ , если  $KM$  – средняя линия треугольника.
3. На рисунке изображён прямоугольник  $ABCD$ , диагонали которого пересекаются в точке  $O$ . Найдите скалярное произведение векторов а)  $\vec{AD} \cdot \vec{AB}$ , б)  $\vec{AO} \cdot \vec{BO}$ , если  $AB=12$ ,  $BC=5$ .



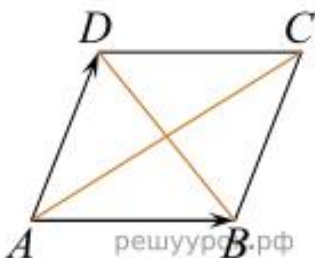
4. Окружность задана уравнением  $(x - 1)^2 + y^2 = 9$ . Напишите уравнение прямой, проходящей через её центр и параллельной оси ординат.
5. Прямая, заданная уравнением  $y = kx - 2$ , проходит через точку  $A(1;5)$ . Составьте уравнение этой прямой.

Вариант 2

1. Даны вектор  $\vec{b}\{3; 2\}$  и  $\vec{c}\{-2; 1\}$ . Найдите координаты суммы этих векторов.
2. Даны координаты вершин параллелограмма  $ABCD$ :  $A(-6; 1)$ ,  $B(0; 5)$ ,  $C(6; -4)$ ,  $D(0; -8)$ . Докажите, что  $ABCD$  - прямоугольник, и найдите координаты точки пересечения его диагоналей  $O$ .

3. На рисунке изображён ромб  $ABCD$ . Найдите скалярное произведение

векторов а)  $\vec{DB} \cdot \vec{AC}$ , , если  $DB=12$ ,  $AC=16$ .



4. Окружность задана уравнением  $(x + 1)^2 + (y - 2)^2 = 16$ . Напишите уравнение прямой, проходящей через её центр и параллельной оси абсцисс.

5. Прямая, заданная уравнением  $y = kx + b$ , проходит через точки  $A(3;4)$  и  $B(2;2)$ . Составьте уравнение этой прямой.

	Вариант 1	Вариант 2
1	$\{-19; 8\}$	$\{1; 8\}$
2	$\{-2; 4\}$	$\{0; -1, 5\}$
3	а) 0	А) 0
4	$x=1$	$y=2$
5	$y=7x-2$	$y=2x-2$

### Контрольная работа за 2 четверть 9 класс

#### Вариант 1

- Какие из данных утверждений ВЕРНЫ:
  - Биссектриса равнобедренного треугольника, проведённая из вершины, противоположной основанию, делит основание на две равные части.
  - В любом прямоугольнике диагонали взаимно перпендикулярны.
  - Для точки, лежащей на окружности, расстояние до центра окружности равно радиусу.
  - Площадь трапеции равна произведению основания трапеции на высоту.
- В треугольнике  $ABC$   $\angle A = 45^\circ$ ,  $\angle B = 60^\circ$ ,  $BC = 3\sqrt{2}$  Найдите  $AC$ .
- Две стороны треугольника равны 7 и 8 см, а угол между ними равен  $120^\circ$ . Найдите третью сторону треугольника.
- В треугольнике  $ABC$   $AB = BC$ ,  $\angle CAB = 30^\circ$ ,  $AE$  – биссектриса,  $BE = 8$  см. Найдите площадь треугольника  $ABC$

## Вариант 2

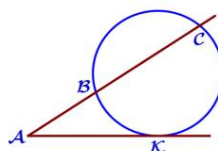
- Какие из данных утверждений НЕ ВЕРНЫ:  
А) Если три стороны одного треугольника пропорциональны трём сторонам другого треугольника, то треугольники подобны.  
Б) Сумма смежных углов равна  $180^\circ$ .  
В) Любая высота равнобедренного треугольника является его биссектрисой.  
Г) Существует квадрат, который не является прямоугольником.
- В треугольнике  $CDE$   $\angle C = 30^\circ$ ,  $\angle D = 45^\circ$ ,  $CE = 5\sqrt{2}$ . Найдите  $DE$ .
- Две стороны треугольника равны 5 и 7 см, а угол между ними равен  $60^\circ$ . Найдите третью сторону треугольника.
- В ромбе  $ABCD$   $AK$  – биссектриса угла  $CAB$ ,  $\angle BAD = 60^\circ$ ,  $BK = 12$  см. Найдите площадь ромба.

	Вариант 1	Вариант 2
1	А,В	В,Г
2	$3\sqrt{3}$	5
3	13	$\sqrt{39}$
4	$75,7 \text{ см}^2$	$930,97 \text{ см}^2$

## Контрольная работа за 3четверть 9 класс

### Вариант 1

- Центральный угол  $BOC$  равен  $40^\circ$ . Найти вписанный угол, опирающийся на дугу  $BC$ .
- Через точку  $A$ , лежащую вне окружности, проведены две прямые. Одна прямая касается окружности в точке  $K$ . Другая прямая пересекает окружность в точках  $B$  и  $C$ , причём  $AB = 4$ ,  $BC = 32$ . Найдите  $AK$ .

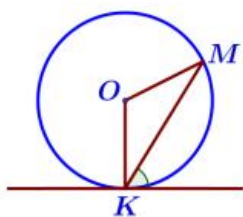


- Хорды  $AC$  и  $BD$  окружности пересекаются в точке  $P$ ,  $BP = 8$ ,  $CP = 24$ ,  $DP = 18$ . Найдите  $AP$ .

4. Продолжения боковых сторон  $AB$  и  $CD$  трапеции  $ABCD$  пересекаются в точке  $M$ ,  $AB:BM=3:7$ ,  $AD$ - большее основание трапеции. Найдите основания трапеции, если их разность равна 6 см.
5. В равнобедренный треугольник с основанием 12 см и периметром 32 см вписана окружность. Найдите радиус этой окружности.

### Вариант 2

1. Вписанный угол  $ABC$  равен  $100^\circ$ . Найти центральный угол, опирающийся на дугу  $AC$ .
2. Прямая касается окружности в точке  $K$ . Точка  $O$  – центр окружности. Хорда  $KM$  образует с касательной угол, равный  $75^\circ$ . Найдите величину угла  $OMK$ . Ответ дайте в градусах.



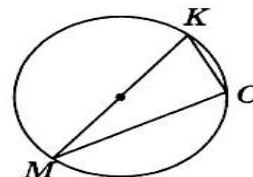
3. В треугольнике  $ABC$  известно, что  $AC = 15$ ,  $BC = 5\sqrt{7}$ , угол  $C$  равен  $90^\circ$ . Найдите радиус описанной окружности этого треугольника
4. При пересечении двух хорд одна из них делится на отрезки 20 см и 4 см, а вторая – на отрезки, один из которых 5 см, а другой не известен. Найти длину второй хорды.
5. Отрезок  $BK$ - биссектриса угла  $B$  треугольника  $ABC$ . Найдите сторону  $AC$ , если  $AB:BC=2:3$ ,  $CK-AK=3$  см.

	Вариант 1	Вариант 2
1	$20^\circ$	$200^\circ$
2	12	$15^\circ$
3	6	10
4	14см, 20см	16см
5	3см	15см



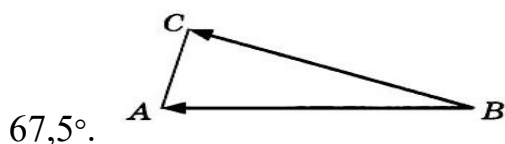
### В - 1

- Отрезок AC – диаметр окружности, O ее центр. Найдите координаты точки O, если даны точки A (7;10) и C (5; - 8)  
**1) (12; 2)      2) (6; 1)      3) (12; -2)      4) (2; 18)**
- Найдите сторону CD треугольника BCD, если известно, что  $BC = 4$ ,  $BD = 8$ ,  $\cos B = \frac{11}{16}$ .
- На рисунке, MK – диаметр окружности. Найдите длину хорды MC,



если  $\angle M = 30^\circ$ , а длина окружности равна  $24\pi$ .

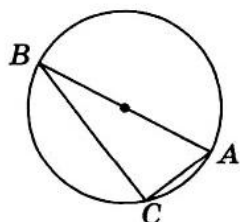
- На рисунке, треугольник ABC – равнобедренный с основанием AC. Найдите скалярное произведение векторов  $\vec{BA}$  и  $\vec{BC}$ , если  $BC = 4$ ,  $\angle A =$



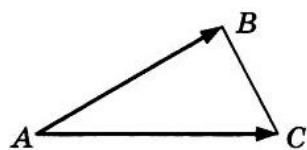
- Площадь параллелограмма ABCD равна  $12\sqrt{3}$ ,  $AB = 3$ ,  $\angle A = 60^\circ$ . Найдите длину диагонали BD.

### В - 2

- Отрезок BM – медиана треугольника ABC. Найдите координаты точки M, если даны точки A (10;5) и C (-4;3)  
**1) (6; 8)      2) (14; 2)      3) (3; 4)      4) (7; 1)**
- Найдите сторону BE треугольника BFE, если известно, что  $EF = 7$ ,  $BF = 6$ ,  $\cos F = \frac{1}{4}$ .
- На рисунке, AB – диаметр круга, площадь, которого равна  $36\pi$ . Найдите длину хорды BC, если  $\angle B = 30^\circ$ .



4. На рисунке, треугольник ABC – равнобедренный с основанием BC. Найдите скалярное произведение векторов  $\vec{AB}$  и  $\vec{AC}$ , если  $AC = 10$ ,  $\angle B = 75^\circ$ .



5. Площадь параллелограмма ABCD равна  $6\sqrt{3}$ ,  $AB = 6$ ,  $\angle D = 60^\circ$ . Найдите длину диагонали AC.

#### Ответы

№ задания	Вариант 1	Вариант 2
1	2	3
2	6	8
3	$8\sqrt{2}$	$50\sqrt{3}$
4	$12\sqrt{3}$	$6\sqrt{3}$
5	7	$2\sqrt{7}$